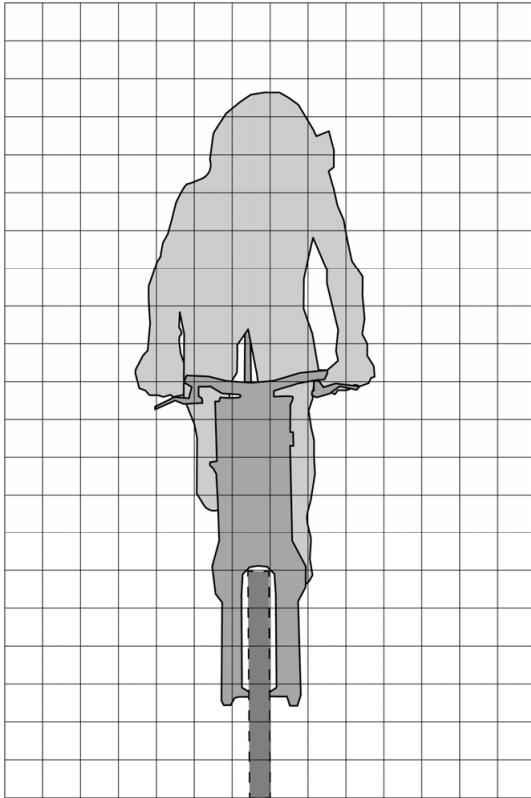


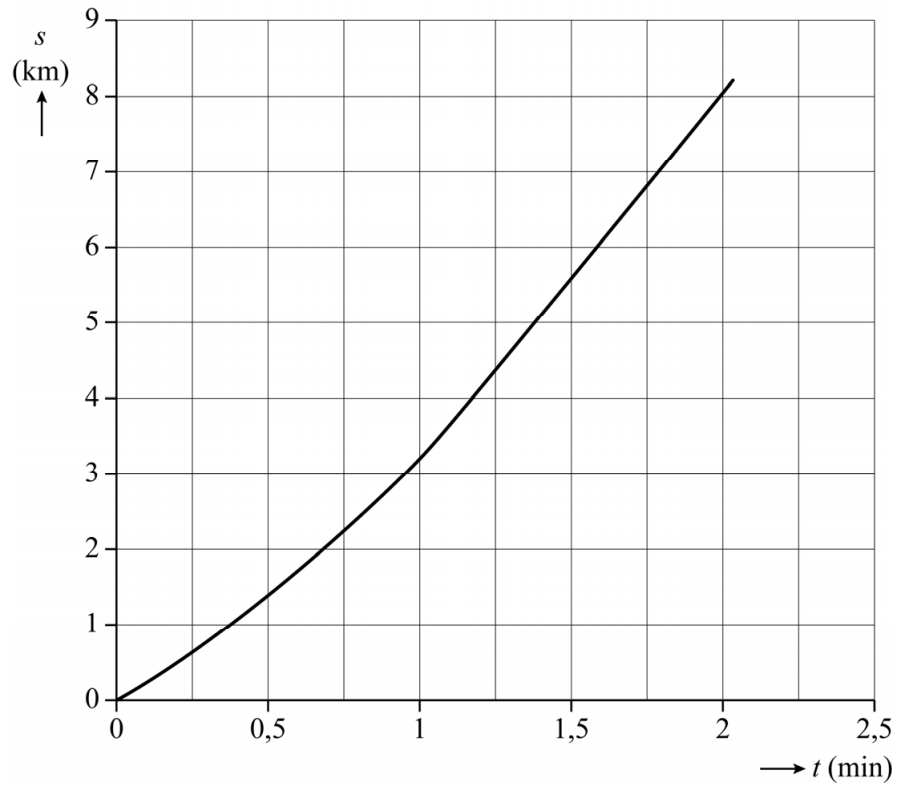
uitwerkbijlage

Naam kandidaat \_\_\_\_\_ Kandidaatnummer \_\_\_\_\_

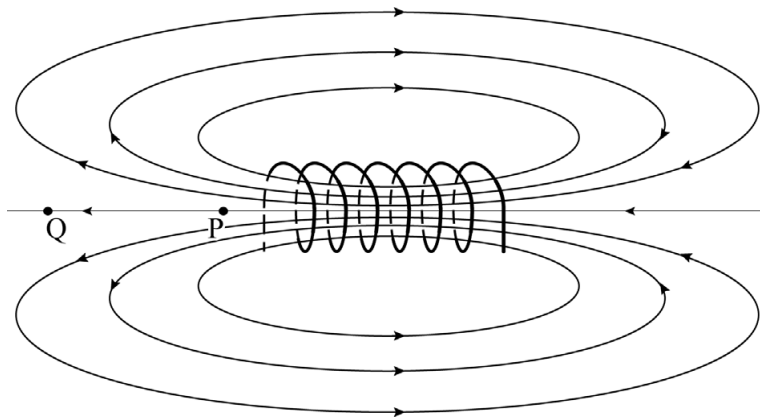
2



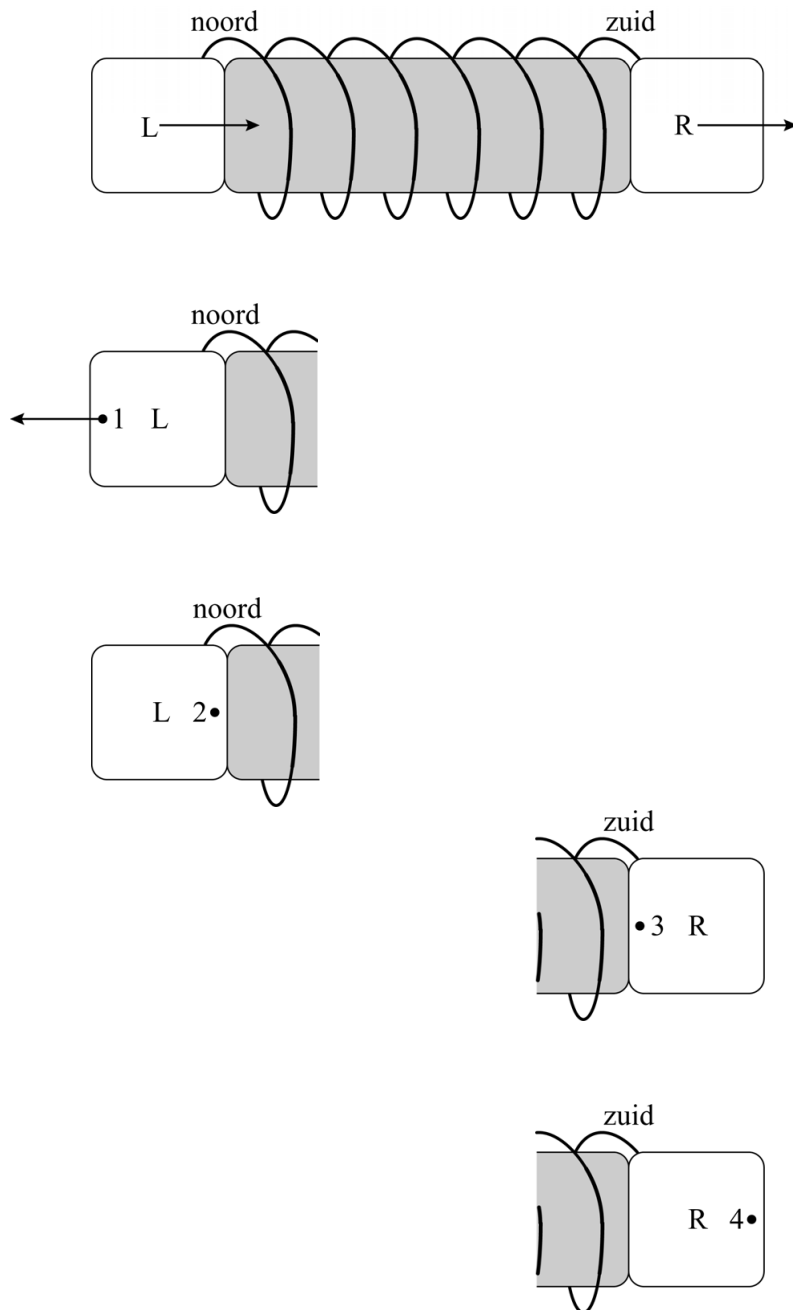
4



12



13



Geef, op basis van je tekening, in de tabel bij elk van de vier punten aan of er sprake is van een noordpool of een zuidpool. Zet steeds een kruisje in het juiste vak:

	noordpool	zuidpool
Punt 1 is een:		
Punt 2 is een:		
Punt 3 is een:		
Punt 4 is een:		

- 24 Geef in de tabel van elke bewering aan of die een juiste verklaring kan zijn voor de schaduw van de galstenen, of niet. Zet steeds een kruisje in het juiste vak:

<b>bewering</b>	<b>kan een juiste verklaring zijn</b>	<b>kan geen juiste verklaring zijn</b>
Het ultrasone geluid wordt door de galstenen geabsorbeerd.		
Het ultrasone geluid wordt door de galstenen gereflecteerd.		
Het ultrasone geluid buigt om de galstenen heen.		
Het ultrasone geluid kan niet verder dan 5 cm in weefsel doordringen.		

**VERGEET NIET DEZE UITWERKBIJLAGE IN TE LEVEREN**