

Examen VWO

2024

tijdvak 2
dinsdag 25 juni
13.30 - 16.30 uur

biologie

Gebruik zo nodig het informatieboek Binas of ScienceData.

Dit examen bestaat uit 41 vragen.

Voor dit examen zijn maximaal 70 punten te behalen.

Voor elk vraagnummer staat hoeveel punten met een goed antwoord behaald kunnen worden.

Als bij een open vraag een verklaring, uitleg of berekening vereist is, worden aan het antwoord meestal geen punten toegekend als deze verklaring, uitleg of berekening ontbreekt.

Geef niet meer antwoorden (redenen, voorbeelden e.d.) dan er worden gevraagd. Als er bijvoorbeeld twee redenen worden gevraagd en je geeft meer dan twee redenen, dan worden alleen de eerste twee in de beoordeling meegeteld.

Tenzij anders vermeld, is er sprake van normale situaties en gezonde organismen.

De herintroductie van het przewalskipaard

In 1969 stierven przewalskipaarden uit in het wild. Vanaf 1992 worden przewalskipaarden uit dierentuinen geherintroduceerd in hun natuurlijke habitat. In 2020 maakte San Diego Zoo Global bekend dat het eerste gekloonde przewalskipaard was geboren in hun dierentuin.

Het przewalskipaard behoort tot de familie van de paardachtigen. Over de wetenschappelijke naam zijn taxonomen het nog steeds niet eens. Het przewalskipaard (afbeelding 1) wordt aangeduid als *Equus przewalskii* of als *Equus ferus przewalskii*. Het 'gewone' paard, dat door de mens tam is gemaakt (gedomesticeerd), heeft de naam *Equus ferus caballus*. Het genoom van deze dieren is verschillend: het przewalskipaard heeft 66 chromosomen; het gewone paard heeft 64 chromosomen. Een kruising van een gewoon paard met een przewalskipaard levert vruchtbare nakomelingen (F1) op met 65 chromosomen.

afbeelding 1

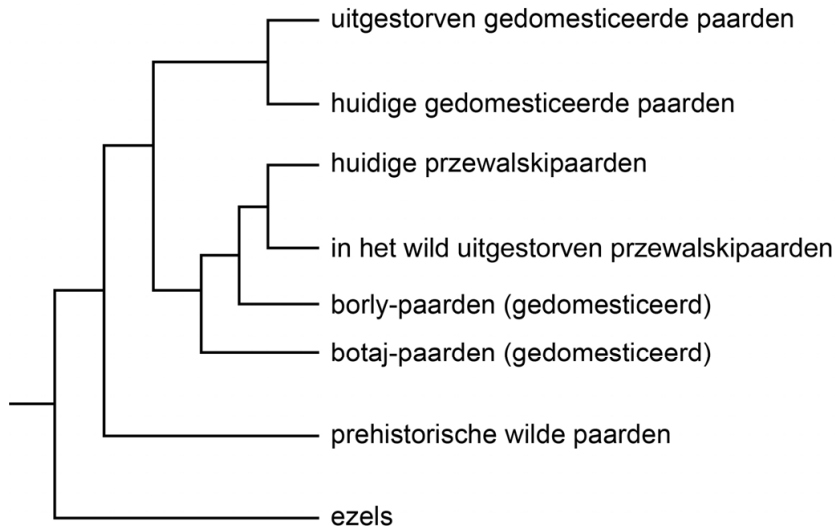


Stel dat jij mag bepalen welke van de twee wetenschappelijke namen het przewalskipaard krijgt.

- 1p 1 Noteer welke naam je dan kiest, en geef een biologisch argument dat jouw keuze ondersteunt.

Lange tijd werd aangenomen dat przewalskipaarden wilde paarden zijn: de voorouders van przewalskipaarden zouden nooit gedomesticeerd zijn geweest. Daarmee zouden przewalskipaarden de enige nog levende wilde paarden zijn. Wetenschappers uit verschillende landen hebben onderzocht of dat inderdaad zo is. Het genoom van de eerste gedomesticeerde paarden uit Kazachstan (botaj-paarden en borly-paarden, die circa 5000 jaar geleden leefden) werd vergeleken met dat van andere groepen paarden. Op grond van de resultaten is een cladogram opgesteld (afbeelding 2).

afbeelding 2



Over het cladogram worden de volgende uitspraken gedaan:

- 1 De huidige przewalskipaarden zijn wilde paarden.
- 2 De ezels zijn voorouders van de huidige przewalskipaarden.
- 3 De huidige przewalskipaarden zijn meer verwant aan huidige gedomesticeerde paarden dan aan prehistorische wilde paarden.

2p **2** Schrijf de nummers 1, 2 en 3 onder elkaar en noteer erachter of de betreffende uitspraak **wel** of **niet** door het cladogram wordt ondersteund.

In de eerste helft van de vorige eeuw werden tientallen przewalskipaarden gevangen om in dierentuinen te houden. Uiteindelijk hebben slechts twaalf dieren zich daar succesvol voortgeplant. Alle nu levende przewalskipaarden stammen af van deze dieren.

Door de enorme afname van het aantal przewalskipaarden is de genenpool afgenomen.

- 1p 3 Wat is de naam voor de afname van de genenpool als gevolg van een enorme afname van de populatiegrootte?
- A gene flow
 - B het flessenhalseffect (bottleneckeffect)
 - C het stichtereffect (foundereffect)
 - D natuurlijke selectie

De kleine populatie przewalskipaarden heeft geleid tot inteelt bij de nakomelingen.

Over inteelt worden de volgende uitspraken gedaan:

- 1 Door inteelt neemt de kans op het ontstaan van mutaties toe.
- 2 Inteelt vergroot de kans op een lagere fitness van de nakomelingen.
- 3 Door inteelt neemt het aandeel heterozygoten in de populatie toe.

- 2p 4 Schrijf de nummers 1, 2 en 3 onder elkaar en noteer erachter of de betreffende uitspraak **juist** of **onjuist** is.

De Nederlandse biologen Annette Groeneveld en Inge en Jan Bouman maakten in 1977 een plan voor de herintroductie van przewalskipaarden in Mongolië. Zij haalden przewalskipaarden uit dierentuinen en bereidden de dieren in een natuurgebied in Flevoland voor op herintroductie. Tussen 1992 en 2000 zijn 82 'Flevolandse' przewalskipaarden uitgezet in de Gobi-woestijn in Mongolië.

De tekst hieronder beschrijft het verblijf van de przewalskipaarden in het natuurgebied in Flevoland. Op de plaatsen 1 en 2 ontbreekt een woord.

Door de przewalskipaarden te plaatsen in het natuurgebied in Flevoland, konden de dieren wennen aan de omstandigheden in het wild. Omdat er geen andere paarden voorkwamen in het gebied, was ...(1)... van de przewalskipaarden nog niet bezet. Door de przewalskipaarden werd de successie in het gebied ...(2)... .

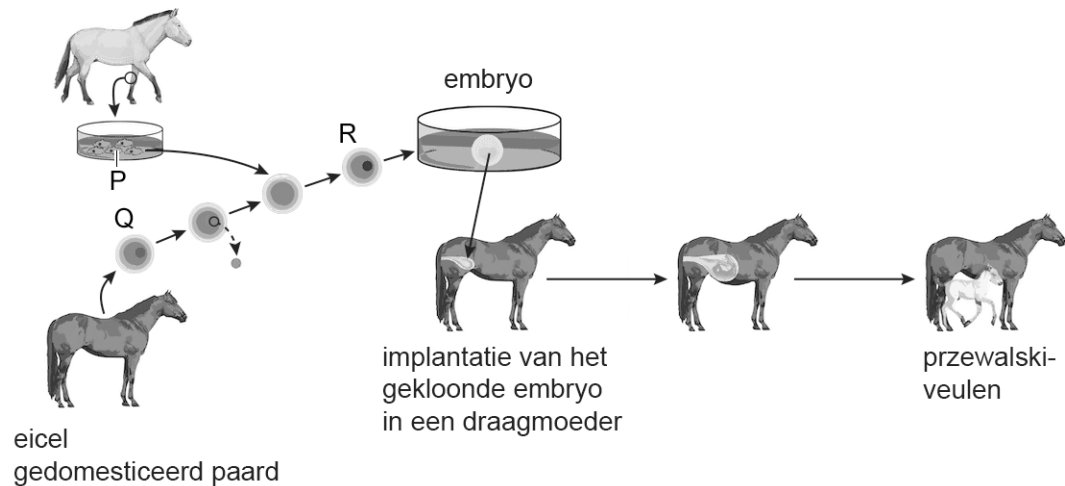
- 2p 5 Wat moet worden ingevuld bij 1 en bij 2?

	<u>bij 1</u>	<u>bij 2</u>
A	de habitat	versneld
B	de habitat	vertraagd
C	de niche	versneld
D	de niche	vertraagd
E	het ecosysteem	versneld
F	het ecosysteem	vertraagd

Wetenschappers proberen met fokprogramma's de genetische diversiteit van de populatie przewalskipaarden te vergroten. Hierbij maken ze onder andere gebruik van genetisch materiaal dat is ingevroren en opgeslagen in een 'frozen zoo'. Het gekloonde przewalskipaard in San Diego Zoo Global is hier een voorbeeld van. De wetenschappers gebruikten hierbij een eicel van een gedomesticeerd paard en de celkern van een ingevroren huidcel van een przewalski-hengst. Afbeelding 3 toont de werkwijze van de wetenschappers.

afbeelding 3

ingevroren huidcellen
przewalskipaard



In de frozen zoo waren cellen van verschillende hengsten opgeslagen. Om een geschikte hengst te kiezen voor het fokprogramma, werd sequencing toegepast.

- 2p 6 Leg uit hoe sequencing gebruikt kan worden om de meest geschikte hengst te kiezen.

In afbeelding 3 zijn cellen aangegeven met P, Q en R.

- 2p 7 Schrijf de letters P, Q en R onder elkaar en noteer erachter of de betreffende cel **haploïd** of **diploïd** is.

De procedure die gebruikt is in San Diego Zoo Global levert een veulen op waarvan het genoom niet volledig identiek is aan dat van de gebruikte hengst.

- 1p 8 Licht toe welk deel van het genoom van het przewalski-veulen **niet** identiek is aan dat van de hengst.

Bestrijding van ambrosia

Ambrosia is een plant uit Noord-Amerika die eind negentiende eeuw voor het eerst in Nederland werd waargenomen. Nick is allergisch voor de pollen van ambrosia, waardoor hij vaak last heeft van hooikoorts.

Ambrosia of alsemambrosia (*Ambrosia artemisiifolia*, afbeelding 1) is een eenjarige plant. De plant komt voor op verstoorde gronden, zoals omgewerkte bermen, akkers, fabrieks- en bouwterreinen. De onopvallende bloemen produceren een grote hoeveelheid stuifmeel (pollen), waar veel mensen een allergie voor ontwikkelen. Ook het aantal geproduceerde zaden is enorm groot. Het zaad kan meer dan 40 jaar kiemkrachtig blijven. De zaden van ambrosia zijn via hooi en vogelvoer in Nederland terechtgekomen. In Nederland kan de plant alleen in warme zomers kiemkrachtige zaden produceren.

afbeelding 1



Ambrosia wordt al meer dan een eeuw regelmatig in Nederland waargenomen. Toch lijkt de plant zich pas de laatste jaren in Nederland te hebben gevestigd: de plant kan er nu zijn hele levenscyclus voltooien.

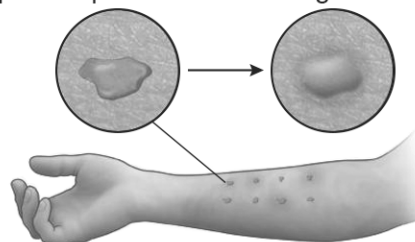
1p **9** Verklaar waardoor ambrosia zich pas de laatste jaren in Nederland heeft gevestigd.

1p **10** Noteer of ambrosia een pioniersoort of een climaxsoort is. Noteer een kenmerk van de soort die dit ondersteunt.

Nicks allergie werd vastgesteld met behulp van een krastest. Bij een krastest worden verschillende soorten pollen – in een oplosmiddel – aangebracht in een krasje in de huid. Daarnaast worden een positieve en een negatieve controle aangebracht. Voor de positieve controle wordt de lichaamseigen stof (mediator) gebruikt die verantwoordelijk is voor het ontstaan van allergische reacties. Voor de negatieve controle wordt het oplosmiddel zonder pollen gebruikt. Na korte tijd kan de reactie beoordeeld worden aan de hand van de mate van zwelling en roodheid (afbeelding 2).

afbeelding 2

oplossing met pollen op de huid allergische reactie: zwelling en roodheid



- 2p 11 Beschrijf met welk doel ...
- de positieve controle wordt aangebracht.
 - de negatieve controle wordt aangebracht.

Blootstelling aan ambrosiapollen leidt bij Nick tot een allergische astma-aanval. Na blootstelling trekken – onder invloed van de mediator histamine – de spieren in de wand van zijn bronchiolen zich samen en zwelt het slijmvlies op. Ook wordt er meer en dikker slijm geproduceerd dan normaal. Deze reacties leiden ertoe dat sommige bronchiolen geen lucht doorlaten. Het gevormde slijm komt niet in de longblaasjes terecht.

Over deze allergische reactie worden de volgende uitspraken gedaan:

- 1 De slijmproductie is onderdeel van het verworven afweersysteem.
- 2 Er treedt bloedvatvernauwing op in de slijmvliezen.
- 3 Bij een allergische reactie produceert het lichaam overdreven veel antigenen tegen pollen.

- 2p 12 Schrijf de nummers 1, 2 en 3 onder elkaar en noteer erachter of de betreffende uitspraak **juist** of **onjuist** is.

Door de reacties in de luchtwegen bij een allergische astma-aanval wordt de gaswisseling in de longen beïnvloed. Factoren die van invloed zijn op de snelheid van de gaswisseling zijn de diffusiecoëfficiënt (D), het diffusie-oppervlak (A), het verschil in partiële druk (Δc) en de diffusieafstand (Δx).

Bij een allergische astma-aanval veranderen A en Δc .

- 2p 13 Schrijf A en Δc onder elkaar en beschrijf bij elke factor de verandering die optreedt tijdens een astma-aanval. Geef in je beschrijving aan hoe de factor verandert en waardoor deze verandering optreedt.

Het samentrekken van spieren in de wand van de bronchiolen wordt veroorzaakt door activiteit in een deel van het zenuwstelsel.

- 1p 14 Welk deel van het zenuwstelsel laat de spieren in de wand van de bronchiolen samentrekken?
- A het animaal zenuwstelsel
 - B het orthosympatisch zenuwstelsel
 - C het parasympatisch zenuwstelsel

Met een spirometertest wordt Nicks longfunctie bepaald. Tijdens de test wordt een spirogram gemaakt (afbeelding 3). Voor de test moet Nick eerst zo diep mogelijk inademen. Dan begint de test. Nick moet daarbij:

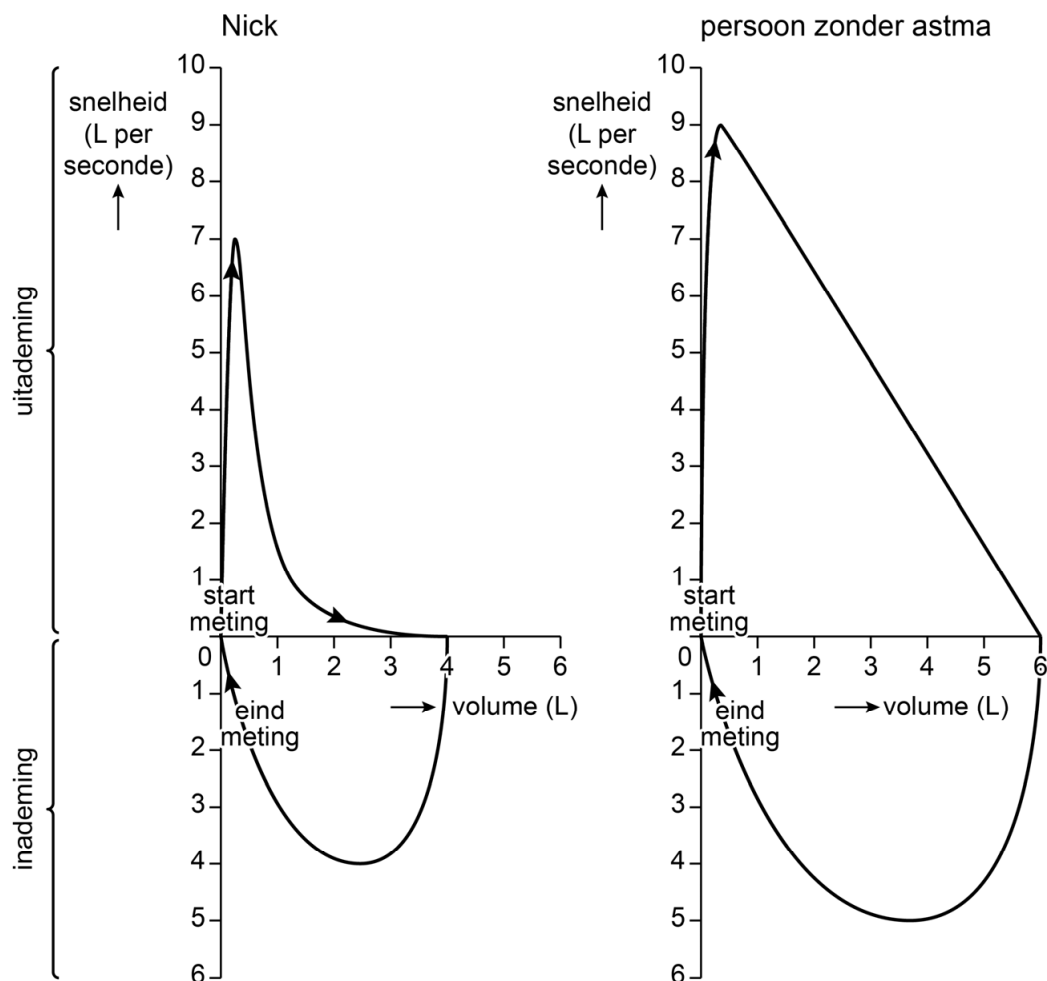
- zo hard en lang mogelijk uitademen (afbeelding 3, bovenkant diagram),
- vervolgens weer volledig inademen (afbeelding 3, onderkant diagram).

Tijdens de test worden de volgende grootheden gemeten:

- het volume van de uitgeademde lucht en van de ingeademde lucht
- de snelheid van de luchtstroom tijdens uitademing en tijdens inademing

Afbeelding 3 toont het verband tussen deze grootheden bij Nick en bij een persoon zonder astma.

afbeelding 3



Over afbeelding 3 worden de volgende uitspraken gedaan:

- 1 De hoogste snelheid wordt bereikt aan het einde van de uitademing.
- 2 De maximale waarde van de grafiek op de x-as is gelijk aan de totale longcapaciteit (V_{TC} of TLC).
- 3 De vitale capaciteit (VC) van Nick is gelijk aan die van de persoon zonder astma.

2p **15** Schrijf de nummers 1, 2 en 3 onder elkaar en noteer erachter of de betreffende uitspraak **juist** of **onjuist** is.

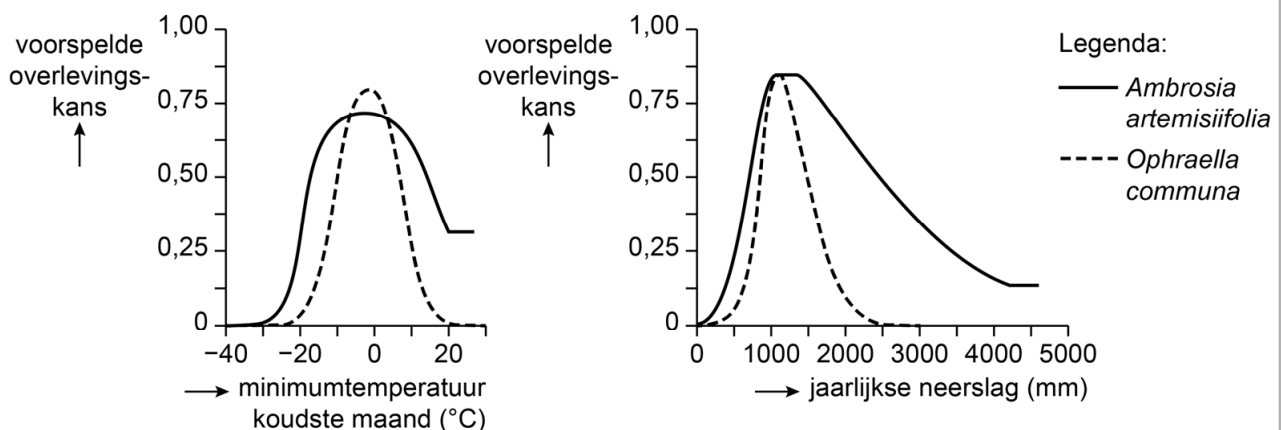
Nick leest dat ambrosia in Europa kan worden bestreden met het bladhaantje *Ophraella communa*. Deze blad-etende kever is afkomstig uit Noord-Amerika en heeft een voorkeur voor ambrosia. Bij gebrek aan ambrosia eet de soort daar ook van andere planten, zoals zonnebloemen. *O. communa* werd in 2013 per ongeluk in Italië geïntroduceerd. Uit onderzoek blijkt dat de hoeveelheid ambrosiapollen in het gebied met 82% afnam en dat de kever er nauwelijks van andere planten at.

In Noord-Amerika is de natuurlijke aanwezigheid van *O. communa* niet effectief om overlast door ambrosia tegen te gaan.

- 1p 16 Geef een mogelijke verklaring waardoor het uitzetten van extra *O. communa* **niet** effectief zal zijn bij de bestrijding van ambrosia in Noord-Amerika.

Wetenschappers onderzochten met behulp van een ecologisch model of *O. communa* ook in andere delen van Europa ingezet kan worden. Met het model zijn de tolerantiecurven van ambrosia en van het bladhaantje berekend (afbeelding 4).

afbeelding 4



Over de tolerantiecurven worden de volgende uitspraken gedaan:

- 1 De tolerantie van ambrosia voor de minimumtemperatuur in de koudste maand is groter dan die van *O. communa*.
- 2 De maximum-tolerantiewaarden voor de jaarlijkse hoeveelheid neerslag van ambrosia en van *O. communa* zijn gelijk.

- 2p 17 Welk van deze uitspraken is juist?
- A geen van beide
 - B alleen 1
 - C alleen 2
 - D zowel 1 als 2

In het model zijn mogelijk belangrijke biotische factoren niet verwerkt.

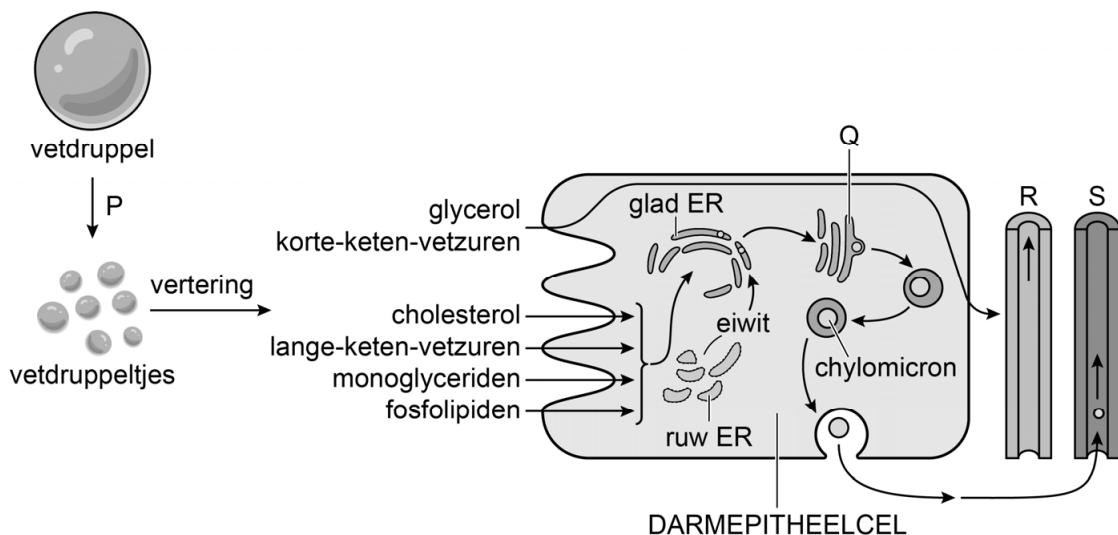
- 1p 18 Noteer twee verschillende biotische factoren die de overlevingskans van *O. communa* zouden kunnen beïnvloeden.

Gentherapie nagemaakt

De gentherapie Glybera was effectief bij mensen met lipoproteïne lipase-deficiëntie, een zeldzame stofwisselingsziekte waarbij de stofwisseling van vetten is verstoord. Maar vanwege de hoge kosten is Glybera van de markt gehaald. Een groep onafhankelijke biologen maakt nu een alternatief voor deze gentherapie.

Het vervoer van vetten in de bloedbaan vindt onder andere plaats door chylomicronen. Chylomicronen zijn lipoproteïnen die worden gemaakt door de darmepitheelcellen. Voor de productie van chylomicronen worden de verteringsproducten van vetten gebruikt. In afbeelding 1 is de vorming van chylomicronen door een darmepitheelcel weergegeven. Daarin zijn proces P en de onderdelen Q, R en S aangegeven.

afbeelding 1



Voor proces P zijn stoffen nodig die worden geproduceerd door een bepaald orgaan.

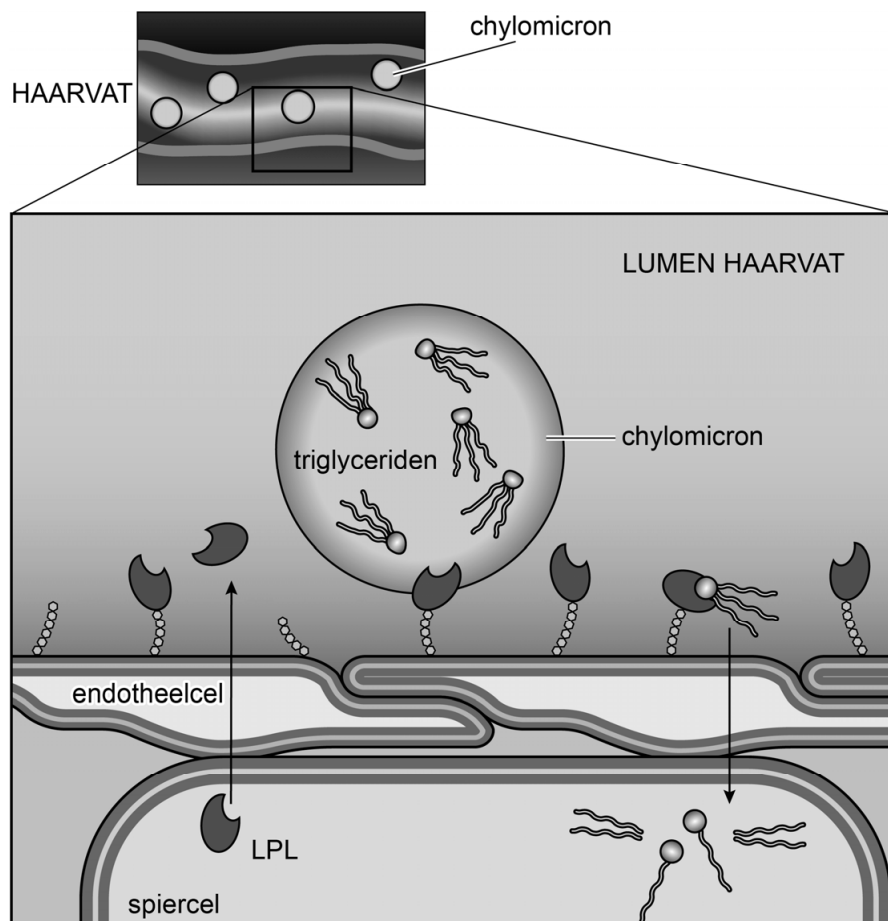
- 2p 19
- Noteer de naam van proces P.
 - Noteer de naam van het orgaan waar de stoffen worden geproduceerd die betrokken zijn bij dit proces.

Darmepitheelcellen nemen de producten van de vetvertering op. In afbeelding 1 is te zien dat een deel van deze producten onbewerkt wordt afgevoerd en dat een ander deel wordt bewerkt tot chylomicronen.

- 2p 20
- Noteer de letters Q, R en S onder elkaar en noteer de naam van het bijbehorende onderdeel erachter.

In de haarvaten van actieve weefsels worden de vetten in de chylomicronen afgebroken door het enzym lipoproteïne lipase (LPL). LPL wordt gemaakt door cellen van verschillende weefsels (zoals vetweefsel en spierweefsel), waarna het wordt afgegeven in de bloedbaan. Daar hecht LPL zich aan het celmembraan van de endotheelcellen. Het enzym breekt vanuit die positie de triglyceriden in de chylomicronen af, waarna de producten (monoglyceriden en vetzuren) door het weefsel kunnen worden opgenomen (afbeelding 2).

afbeelding 2



De vetzuren en monoglyceriden die na LPL-activiteit opgenomen kunnen worden, kunnen onder andere gebruikt worden voor de synthese van triglyceriden (vet). De vetzuren kunnen ook op een andere manier gebruikt worden.

Hierover worden de volgende uitspraken gedaan:

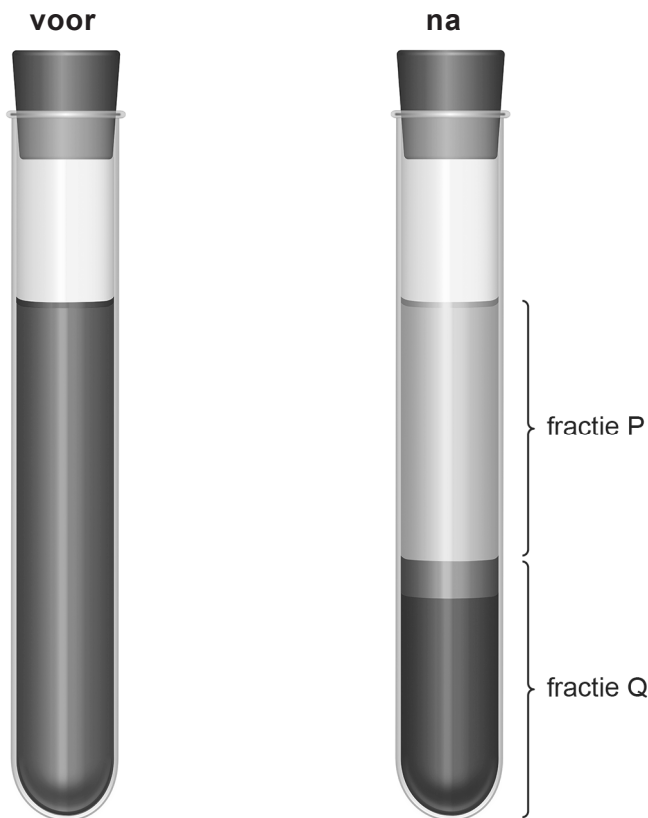
Vetzuren kunnen worden gebruikt voor ...

- 1 de vorming van acetyl-CoA in de mitochondria.
- 2 de synthese van eiwitten aan de ribosomen.
- 3 de opbouw van membranen voor organellen.

2p 21 Schrijf de nummers 1, 2 en 3 onder elkaar en noteer erachter of de betreffende uitspraak **juist** of **onjuist** is.

Bij mensen met LPL-deficiëntie veroorzaakt een normaal dieet een veel te hoog triglyceridegehalte in het bloed. Een hoog triglyceridegehalte van het bloed is zichtbaar na centrifugeren. De fractie waarin de chylomicronen zich bevinden, is dan anders van kleur dan normaal. In afbeelding 3 is een buisje normaal bloed voor en na centrifugeren weergegeven. De fracties na centrifugeren zijn aangegeven met P en Q.

afbeelding 3



Bloed bevat onder andere plasma, rode bloedcellen en witte bloedcellen.

- 2p 22 – Schrijf de letters P en Q onder elkaar en noteer erachter welk of welke van de bovenstaande bloedbestanddelen in de betreffende fractie aanwezig is of zijn.
- Noteer ook in welke fractie de chylomicronen zich zullen bevinden.

Een ander symptoom van LPL-deficiëntie is chronische alvleesklierontsteking. De alvleesklier produceert dan minder ...(1)... waardoor de ontlasting dun en vetzig is. Ook produceert de alvleesklier dan minder ...(2)... waardoor de glucoseconcentratie van het bloed vaak te hoog is. Bij 1 en 2 moeten de namen van twee stoffen worden ingevuld.

- 2p 23 Schrijf de nummers 1 en 2 onder elkaar en noteer de naam van de betreffende stof erachter.

Bij de behandeling met Glybera wordt een functioneel LPL-gen ingebracht. Hierbij is een virus de vector. Dit virus maakt niet ziek en vermenigvuldigt zich niet, maar brengt enkel het functionele LPL-gen in de kern van spiercellen. Daar blijft het gen los in de kern aanwezig. Na injecties met Glybera op zo'n zestig verschillende plaatsen in de beenspieren kan LPL-deficiëntie worden genezen.

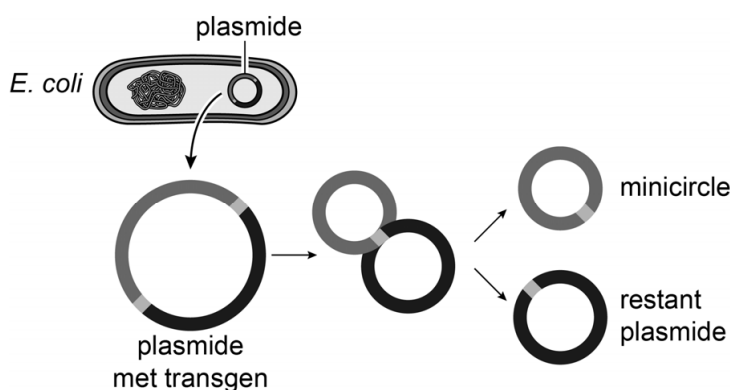
- 2p 24 Beredeneer waarom de injecties met Glybera in het beenspierweefsel volstaan om in het hele lichaam voldoende LPL-activiteit te bereiken.

Bij een Glybera-behandeling krijgt de patiënt medicijnen die de activiteit van B- en T-cellen remmen tijdens en vlak na de behandeling.

- 1p 25 Beredeneer waarom het nodig is om de activiteit van B- en T-cellen te remmen bij een behandeling met Glybera.

De onafhankelijke biologen beweren dat ze op basis van de literatuur over Glybera een alternatief voor de therapie hebben gemaakt: Slybera. Ze plaatsten het LPL-gen in een plasmide en brachten die in bij *E. coli*. Vervolgens lieten de biologen de *E. coli* zich vermeerderen. Daarna werden de plasmiden uit de bacteriën gehaald en werd een bepaalde stof toegevoegd om de plasmide in twee delen te splitsen (afbeelding 4). Daarmee werden de overbodige delen uit de plasmide verwijderd en bleef een zo klein mogelijk relevant deel over: de minicircle. Na zuivering konden de minicircles worden geogst en ingebracht in cellen. De minicircles werden niet in het DNA opgenomen. De biologen hebben aangetoond dat cellen van een zoogdier waarin de minicircles zijn ingebracht, het transgen tot expressie brengen.

afbeelding 4



De plasmide met transgen bevat onder andere de volgende delen:

- 1 het LPL-gen
- 2 een gen voor antibioticum-resistentie
- 3 een promotor voor het LPL-gen
- 4 de bindingsplaats voor prokaryoot DNA-polymerase

- 2p 26 Schrijf de nummers 1 tot en met 4 onder elkaar en noteer erachter of het betreffende deel **wel** of **niet** in de minicircle aanwezig zal zijn.

De biologen zijn van plan om Slybera uiteindelijk te verstrekken aan patiënten met LPL-deficiëntie, maar dan moeten de kwaliteit en veiligheid gegarandeerd zijn. Ze zoeken daarom de hulp van andere onderzoekers voor de volgende stappen die moeten worden gedaan, zoals het uitvoeren van dierproeven.

Onderzoekers ontwerpen een experiment om de effectiviteit van Slybera op muizen te testen. Ze gebruiken 40 LPL-deficiënte muizen.

- 2p **27** Beschrijf het experiment.
- Geef aan welke behandeling de muizen krijgen.
 - Noteer welke metingen moeten worden gedaan bij de muizen.

LPL-deficiëntie erft recessief over. De frequentie van het allel dat verantwoordelijk is voor het ontstaan van LPL-deficiëntie is 0,001.

- 2p **28** Bereken hoeveel mensen in Nederland geholpen zouden kunnen worden met Slybera. Ga ervan uit dat de regel van Hardy-Weinberg van toepassing is en dat het bevolkingsaantal van Nederland 18 miljoen is.

Slaap herstelt DNA

Alle organismen met een zenuwstelsel blijken slaap nodig te hebben. Israëlische wetenschappers toonden aan dat slaap een belangrijke rol speelt bij het herstel van DNA-schade in neuronen.

Bij gewervelden wordt het slaap-waakritme geregeld door het peptide-hormoon melatonine. Melatonine wordt geproduceerd door de epifyse, een klier in de hersenen. De aanmaak doorloopt een 24 uurs-ritme én wordt beïnvloed door de hoeveelheid licht die door bepaalde receptoren in het netvlies wordt opgevangen. Om in te kunnen slapen moet de melatonineconcentratie boven een bepaalde drempelwaarde komen.

- 2p 29 Is de epifyse een endocriene of een exocriene klier? En wordt de melatonineproductie door licht geremd of gestimuleerd?

	<u>epifyse is</u>	<u>melatonineproductie wordt door licht</u>
A	endocrien	geremd
B	endocrien	gestimuleerd
C	exocrien	geremd
D	exocrien	gestimuleerd

Op de celmembranen van veel verschillende celtypen zijn melatonine-receptoren te vinden. Zo ook op cellen van het centraal zenuwstelsel. Melatonine heeft verschillende effecten op cellen; het kan bijvoorbeeld de genexpressie beïnvloeden.

Drie uitspraken over de doelwitcellen met melatoninereceptoren zijn:

- 1 Melatonine bereikt de celkern via diffusie.
- 2 Het effect van melatonine verloopt via second messengers.
- 3 Melatonine is een transcriptiefactor.

- 2p 30 Schrijf de nummers 1, 2 en 3 onder elkaar en noteer erachter of de betreffende uitspraak **juist** of **onjuist** is.

Doordat neuronen voornamelijk overdag actief zijn, lopen ze voornamelijk overdag DNA-schade op.

DNA-schade wordt veelal veroorzaakt door zuurstofradicalen. Deze stoffen ontstaan bij processen waarbij zuurstof wordt gebruikt.

- 1p 31 Bij welk proces wordt zuurstof gebruikt?
- A bij de citroenzuurcyclus
 - B bij de glycolyse
 - C bij de melkzuurgisting
 - D bij de oxidatieve fosforylering

De DNA-schade ontstaat als gevolg van de productie van ATP.

- 2p 32 Leg uit dat actieve neuronen veel ATP gebruiken. Gebruik in je uitleg een proces op cellulair niveau én een proces op moleculair niveau.

Een voorbeeld van DNA-schade is een dubbelstrengsbreuk (dsb). Bij een dsb zijn beide strengen van een DNA-molecuul gebroken. Bij de reparatie van dsb's kunnen soms inserties of deleties optreden.

Over inserties en deleties worden de volgende uitspraken gedaan:

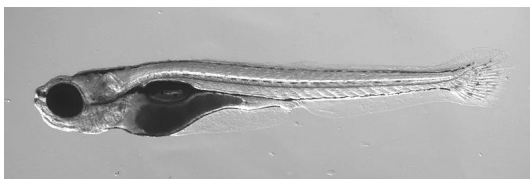
- 1 Een insertie kan leiden tot een leesraamverschuiving.
- 2 Een deletie kan leiden tot de synthese van een langer eiwit.

2p 33 Welke uitspraak is juist?

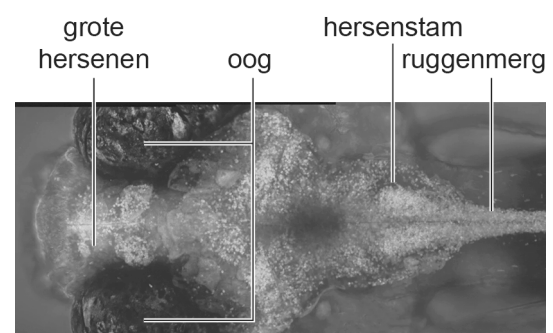
- A geen van beide
- B alleen 1
- C alleen 2
- D zowel 1 als 2

De Israëliische wetenschappers onderzochten of slaap nodig is om dsb's in neuronen te herstellen. Zij voerden dit onderzoek uit met larven van zebravisjes (afbeelding 1). Zebravisjes zijn vissen die overdag actief zijn. De larven zijn doorzichtig, waardoor het centraal zenuwstelsel goed zichtbaar is. De onderzoekers modificeerden de zebravisjes zodat ze in hun neuronen een groen-fluorescerend eiwit aanmaken dat bindt aan de chromosoomuiteinden (telomeren). Op deze manier maakten ze de beweeglijkheid van chromosomen (chromosoomdynamiek) zichtbaar in het zenuwstelsel van levende zebravis-larven (afbeelding 2). De onderzoekers gebruikten de chromosoomdynamiek als maat voor DNA-herstel. De chromosoomdynamiek wordt onder andere beïnvloed door de mate van spiralيسatie van de chromatinedraad en door reparatieprocessen. De chromosoomdynamiek wordt uitgedrukt in de hoeveelheid ruimte waarbinnen de uiteinden van chromosomen bewegen. De lichte plaatsen op de foto in afbeelding 2 geven cellen aan met veel chromosoomdynamiek.

afbeelding 1



afbeelding 2



Vooraf tijdens de slaap van de zebravis-larven namen de onderzoekers grote chromosoomdynamiek waar in neuronen. Als ze – tijdens de slaap – de activiteit van neuronen stimuleerden, nam de chromosoomdynamiek af.

De onderzoekers konden vaststellen dat chromosoomdynamiek inderdaad een goede maat is voor DNA-herstel, door in de neuronen van de zebra-vis-larven ook de stof γ H2AX te meten.

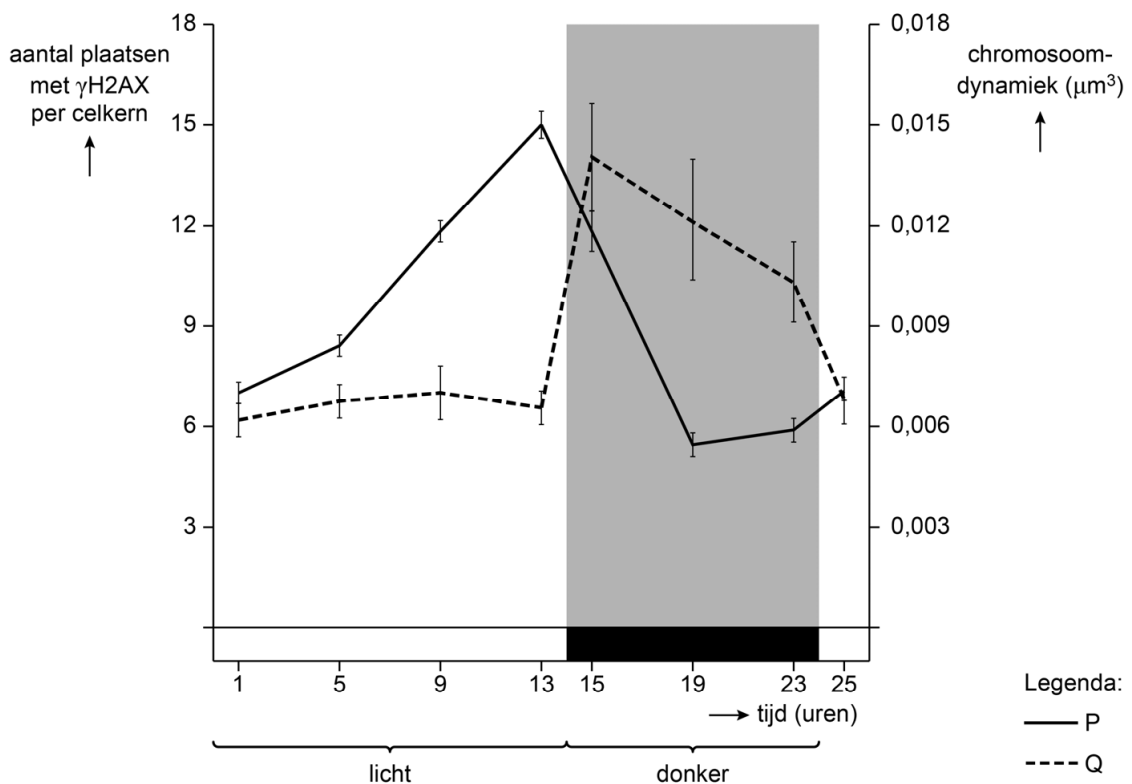
Bij het optreden van een dsb wordt γ H2AX gevormd uit het histon-eiwit H2AX. Op plaatsen waar veel γ H2AX aanwezig is dus zeer waarschijnlijk een dsb aanwezig.

De omzetting van H2AX in γ H2AX maakt de reparatie van een dsb mogelijk doordat het de spiralisatie van de chromatinedraad vermindert.

- 1p 34 Verklar dat de afgenomen spiralisatie van de chromatinedraad het herstel van dsb's makkelijker maakt.

Afbeelding 3 toont de gemeten hoeveelheid γ H2AX en de chromosoomdynamiek in neuronen van zebra-vis-larven gedurende 25 uur.

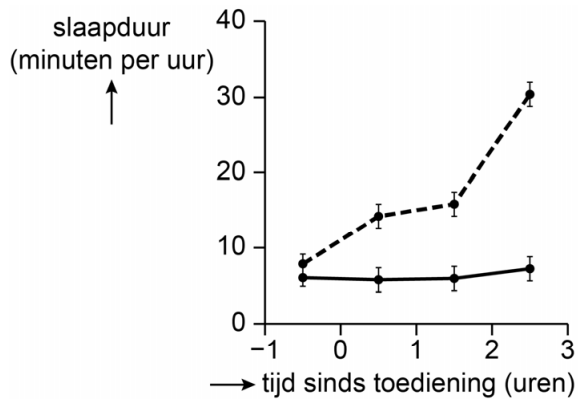
afbeelding 3



- 2p 35 In de legenda is niet weergegeven welke lijn bij welke as hoort. Wordt het aantal plaatsen met γ H2AX per kern weergegeven door lijn P of door lijn Q? En waarom?
- A door lijn P, want dsb's ontstaan vooral overdag
 - B door lijn P, want dsb's worden vooral overdag hersteld
 - C door lijn Q, want dsb's ontstaan vooral overdag
 - D door lijn Q, want dsb's worden vooral overdag hersteld

Om te bepalen hoe slaap en chromosoomdynamiek samenhangen, deden de onderzoekers een experiment waarbij een groep zebrafish-larven overdag melatonine in een oplosmiddel toegediend kreeg. Een andere groep zebrafish-larven kreeg alleen het oplosmiddel toegediend (controle). Afbeelding 4 toont de slaapduur vlak voor en na toediening. Afbeelding 5 toont de chromosoomdynamiek drie uur na toediening.

afbeelding 4

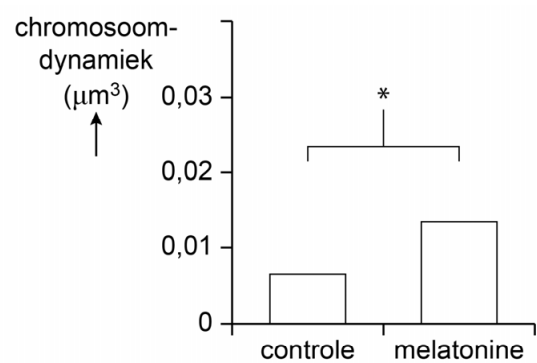


Legenda:

— controle

---- melatonine-oplossing

afbeelding 5



* = significant verschil

2p 36 Welk model wordt ondersteund door de resultaten van het onderzoek?

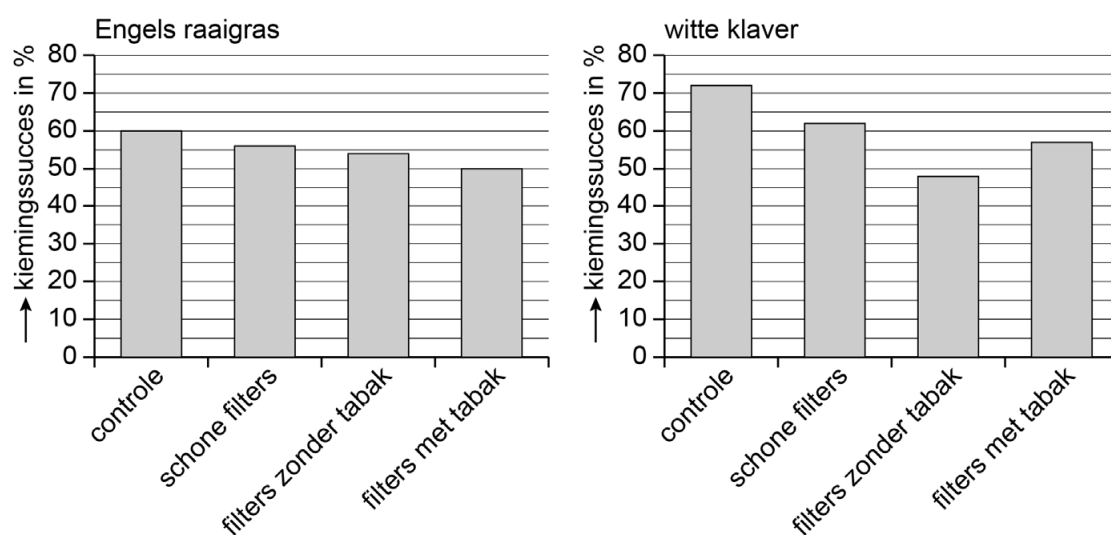
- A chromosoomdynamiek $\xrightarrow{+}$ slaap
- B chromosoomdynamiek $\xrightarrow{-}$ slaap
- C slaap $\xrightarrow{+}$ chromosoomdynamiek
- D slaap $\xrightarrow{-}$ chromosoomdynamiek

Schadelijke peuken

Onderzoek heeft aangetoond dat weggegooide sigarettenpeuken verstoringen in ecosystemen kunnen veroorzaken. Ecologen van de University of Cambridge onderzochten de invloed van sigarettenpeuken op de twee plantensoorten die veel in grasvelden van parken te vinden zijn: Engels raaigras en witte klaver.

In het onderzoek werden drie typen sigarettenfilters gebruikt: filters van ongerookte sigaretten (schone filters), filters van gerookte sigaretten (filters zonder tabak) en filters van gerookte sigaretten waaraan nog een beetje tabak achter was gebleven (filters met tabak). Afbeelding 1 toont het percentage zaden dat is gekiemd (het kiemingssucces) van Engels raaigras en witte klaver, gezaaid op bodems met de drie typen filters en op controle-bodems.

afbeelding 1



Het relatieve kiemingssucces is de mate waarin de kieming van de behandeling verschilt van de controle. In het geval van Engels raaigras is dit in aanwezigheid van filters met tabak 83%.

- 2p 37 Bereken het relatieve kiemingssucces van witte klaver in aanwezigheid van filters met tabak.

Let op: de laatste vragen van dit examen staan op de volgende pagina.

Eenentwintig dagen nadat de planten gekiemd waren, werden verschillende metingen gedaan aan de planten. De tabel toont de resultaten van planten die gegroeid waren op bodems met filters met tabak ten opzichte van planten die gegroeid waren op de controlebodems.

	Engels raaigras	witte klaver
lengte stengels	-13%	-28%
drooggewicht wortels	geen significant verschil	-57%
gehalte chlorofyl a	geen significant verschil	+10%
gehalte chlorofyl b	-18%	geen significant verschil

Het grootste effect is het lagere wortelgewicht in witte klaver.

- 2p **38** Beredeneer dat een klein procentueel verschil in wortelgewicht bij de kiemplant kan leiden tot een veel groter procentueel verschil in wortelgewicht na 21 dagen.

De afname van het gehalte chlorofyl b bij Engels raaigras heeft invloed op de fotosynthese.

- 2p **39** Welk effect heeft een afname in het gehalte chlorofyl b?
- A** Er worden minder elektronen aangeslagen bij licht met een golflengte van 450 nm.
 - B** Er worden minder elektronen aangeslagen bij licht met een golflengte van 700 nm.
 - C** Fotosysteem II draagt meer bij aan de NADPH-productie dan fotosysteem I.
 - D** Fotosysteem II draagt meer bij aan de ATP-productie dan fotosysteem I.

In het onderzoek werden Engels raaigras en witte klaver gekweekt op bodems waarin de omstandigheden voor plantengroei optimaal zijn. Witte klaver behoort tot de vlinderbloemigen, die een symbiose kunnen aangaan met knolletjes-bacteriën. In de natuurlijke situatie beïnvloedt de symbiose het succes van witte klaver.

- 1p **40** Op welk type bodem hebben witte-klaverplanten door symbiose met knolletjesbacteriën het grootste voordeel ten opzichte van niet-vlinderbloemigen?
- A** op fosfaatarme bodems
 - B** op fosfaatrijke bodems
 - C** op nitraatarme bodems
 - D** op nitraatrijke bodems

De vervuiling met sigarettenpeuken is ook nadelig voor de knolletjesbacteriën, doordat stengelgroei van de witte klaver afneemt.

- 2p **41** Leg uit dat een kortere stengel van witte klaver nadelig is voor de knolletjesbacteriën als er ook andere plantensoorten aanwezig zijn.

Bronvermelding

Een opsomming van de in dit examen gebruikte bronnen, zoals teksten en afbeeldingen, is te vinden in het bij dit examen behorende correctievoorschrift.