

Bijlage HAVO  
**2024**

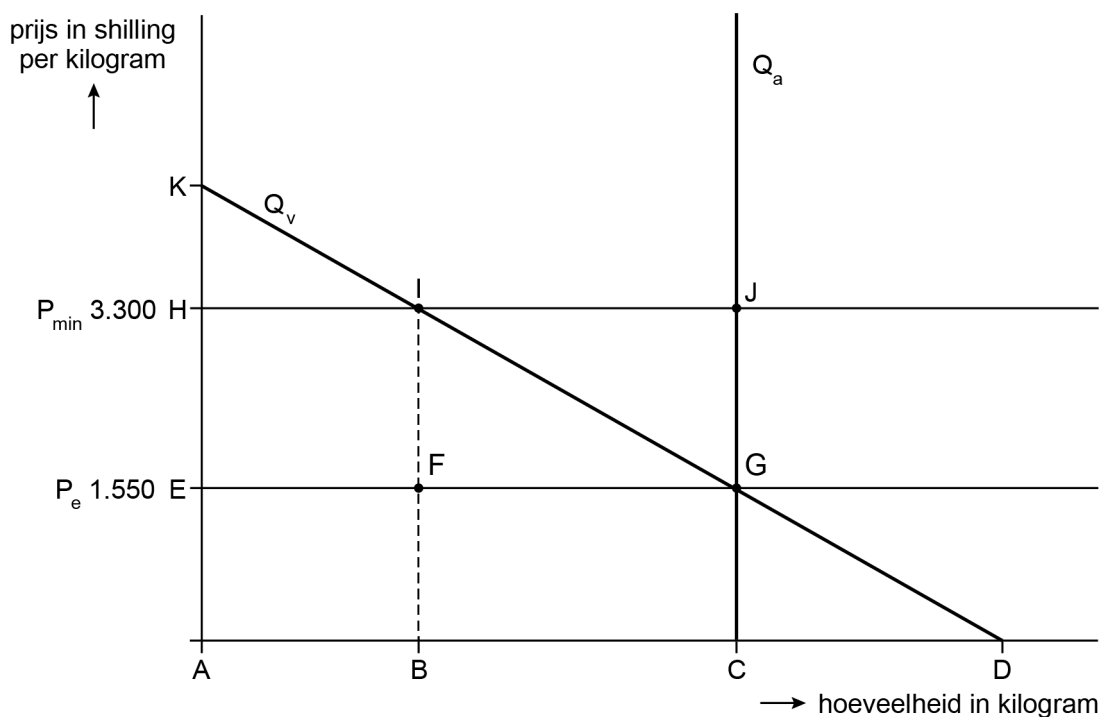
tijdvak 2

**economie**

Bronnenboekje

## Opgave 1 Cashewnoten

### Bron 1 Vereenvoudigde weergave cashewnotenmarkt van Tanzania

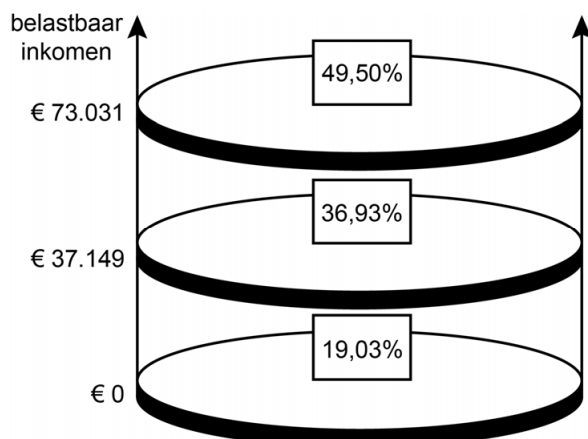


- $P_{\min}$  minimumprijs per kilogram in Tanzaniaanse shilling
- $P_e$  evenwichtsprijs per kilogram in Tanzaniaanse shilling
- $Q_v$  gevraagde hoeveelheid cashewnoten in kilogram
- $Q_a$  aangeboden hoeveelheid cashewnoten in kilogram

## Opgave 3 Studiekosten

---

### Bron 1 Belastingstijven en de bijbehorende belastingtarieven



## Opgave 4 Rente omlaag, maar dan?

---

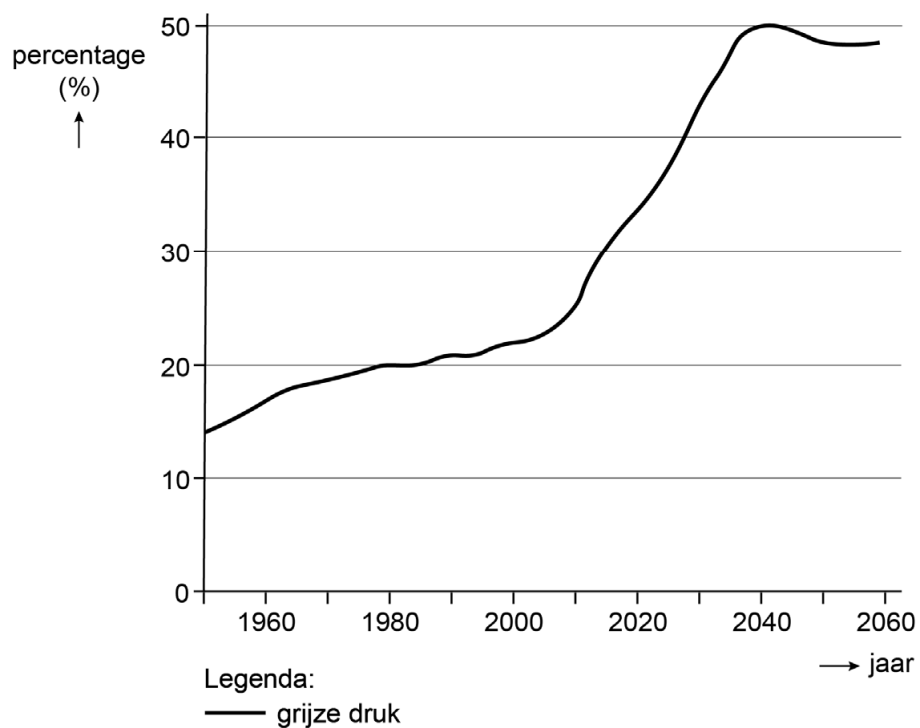
### Bron 1 Uitgewerkt voorbeeld van de afweging: kopen of huren

Een huurder heeft de volgende verwachtingen voor de komende jaren:

- in het eerste jaar bedraagt de huur € 7.200;
- de huur stijgt jaarlijks op 1 januari met 4%;
  
- een vergelijkbare koopwoning kost € 240.000;
- de rente van een hypothecaire lening waarop niet wordt afgelost blijft 2% per jaar;
- de koopwoning wordt volledig gefinancierd met een hypothecaire lening;
  
- de extra kosten van een koopwoning ten opzichte van een huurwoning (onderhoud, etc.) worden de komende jaren geschat op € 250 per maand.

## Opgave 5 Zorgen om morgen

### Bron 1 Grijze druk



Grijze druk is gedefinieerd als het aantal 67-plussers als percentage van het aantal 20- tot 66-jarigen.