

**Examen VMBO-GL en TL**

**2022**

tijdvak 2  
tijdsduur: 2 uur

**aardrijkskunde CSE GL en TL**

Dit examen bestaat uit 42 vragen.

Voor dit examen zijn maximaal 57 punten te behalen.

Voor elk vraagnummer staat hoeveel punten met een goed antwoord behaald kunnen worden.

## Meerkeuzevragen

Schrijf alleen de hoofdletter van het goede antwoord op.

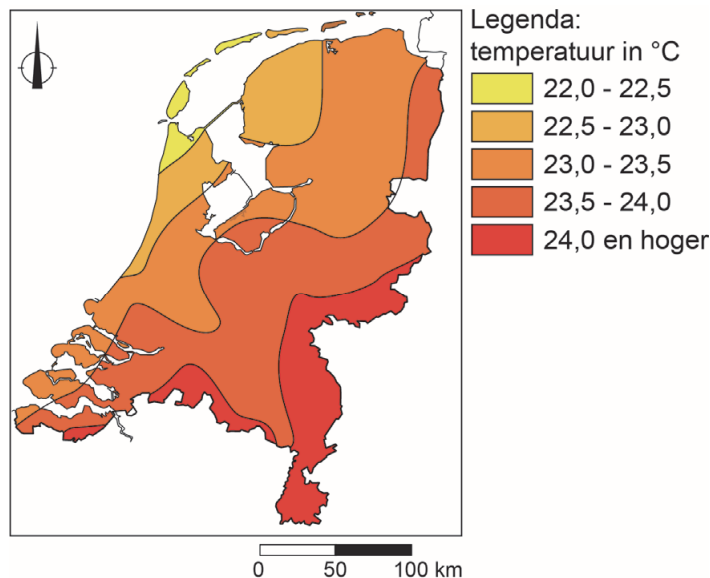
## Open vragen

Geef niet meer antwoorden (redenen, voorbeelden e.d.) dan er worden gevraagd. Als er bijvoorbeeld twee redenen worden gevraagd en je geeft meer dan twee redenen, dan worden alleen de eerste twee in de beoordeling meegeteld.

## Weer en klimaat

### bron 1

Nederland, temperatuur op 21 augustus 2020



- 1p 1 Bekijk bron 1.  
Op 21 augustus 2020 was het aan de kust van Nederland koeler dan in het binnenland.  
→ Geef de oorzaak van dit temperatuurverschil.
- 2p 2 Over het weer en het klimaat in Nederland worden drie uitspraken gedaan.  
Uitspraak 1: de ligging aan zee zorgt voor extreme temperatuurverschillen tussen zomer en winter in Nederland.  
Uitspraak 2: in Nederland ontstaat vooral frontale neerslag.  
Uitspraak 3: een hogedrukgebied boven Nederland zorgt in de zomer voor zonnig en warm weer.  
→ Neem de cijfers 1, 2 en 3 van de uitspraken over op het antwoordblad en zet erachter of de uitspraak juist of onjuist is.

## bron 2

### Wijnbouw in Nederland

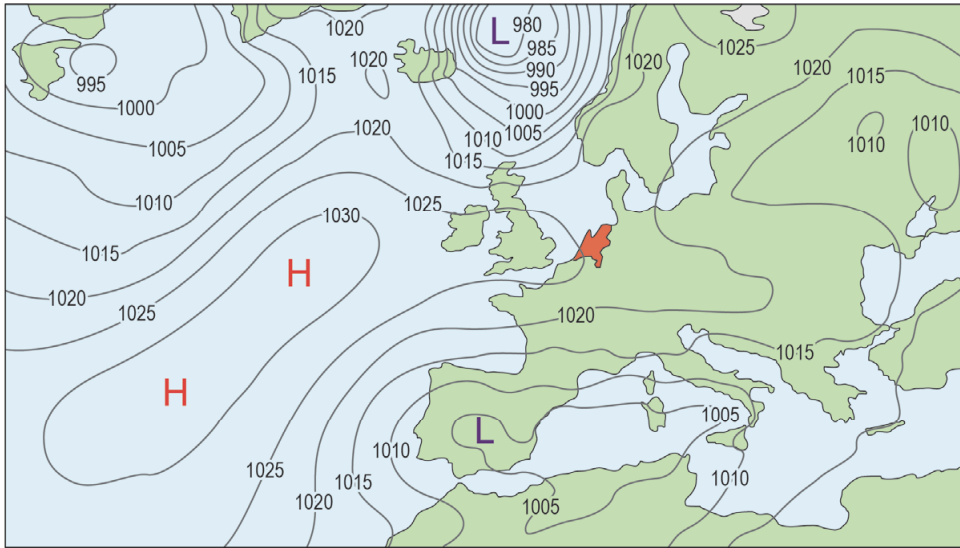
De Nederlandse wijnbouw is de laatste jaren flink gegroeid. De mediterrane druif groeit steeds makkelijker in Nederland. In de provincie Limburg wordt al langer wijn geproduceerd. Maar tegenwoordig zijn ook in Noord-Holland en Groningen steeds meer wijngaarden te vinden.



- 1p 3 Lees bron 2.  
Klimaatverandering zorgt in Nederland voor meer gunstige omstandigheden voor de wijnbouw.  
→ Geef aan welk gevolg van klimaatverandering gunstig is voor de wijnbouw in Nederland.

### bron 3

Weerkaart van 12 januari 2021



Legenda:

–1025– luchtdruk

L lagedrukgebied

H hogedrukgebied

- 1p 4 Bekijk bron 3.  
In Noordwest-Spanje waaide het op 12 januari 2021 harder dan in Nederland.  
→ Welke aanwijzing geeft bron 3 hiervoor?

### bron 4

Tekst met keuzemogelijkheden

Op 12 januari 2021 lagen boven Europa verschillende luchtdrukgebieden. Boven Spanje lag een lagedrukgebied met ... **1** ... (dalende / stijgende) lucht. Deze lucht ... **2** ... (koelt af / warmt op) en condenseert tot neerslag. In Nederland was de kans op zonnig, helder weer ... **3** ... (groter / kleiner) dan in Spanje.

- 2p 5 Bekijk bron 3 en lees bron 4.  
In bron 4 staat achter de cijfers 1, 2 en 3 telkens een keuzemogelijkheid.  
→ Neem de cijfers uit de tekst over op het antwoordblad en zet de juiste keuze erachter.

## bron 5

### Tekst met keuzemogelijkheden

Spanje staat voor de uitdaging om de landbouw aan te passen aan het veranderende klimaat. De landbouw in Spanje zal steeds meer te maken krijgen met een watertekort omdat er ... **1** ... (meer / minder) nuttige neerslag is en de droge periode langer wordt.

Nu al is een groot deel van de Spaanse bodem alleen geschikt voor ... **2** ... (extensieve / intensieve) veeteelt.

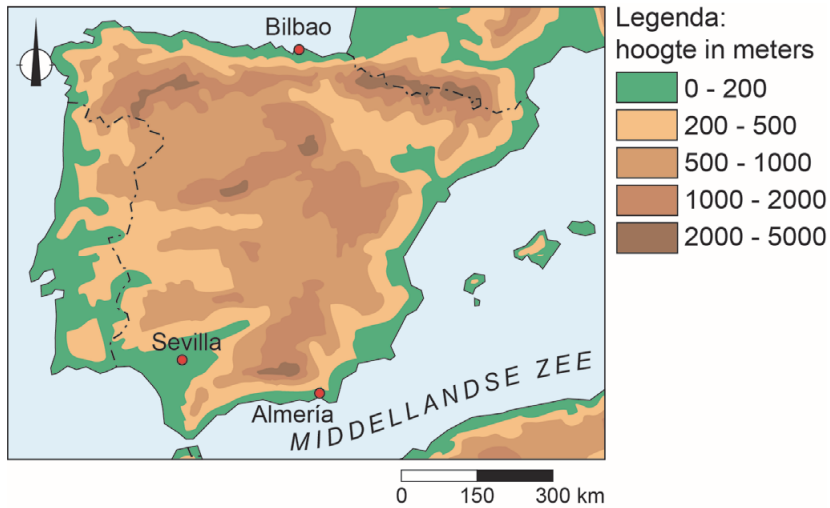
Een mogelijke oplossing voor het watertekort is ... **3** ... (de aanleg van drainagesystemen / het opslaan van water) tijdens de winterperiode.

2p **6** Lees bron 5.

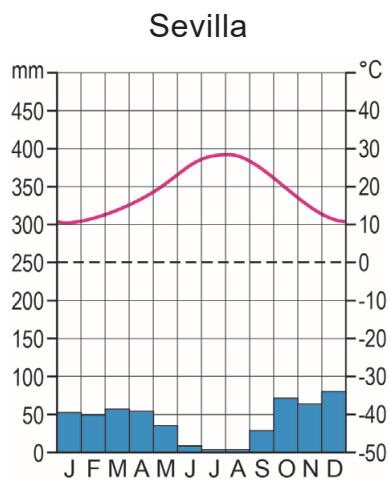
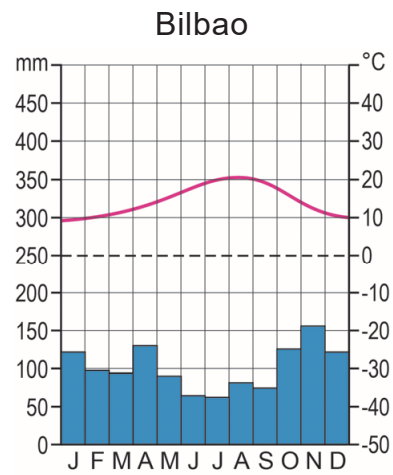
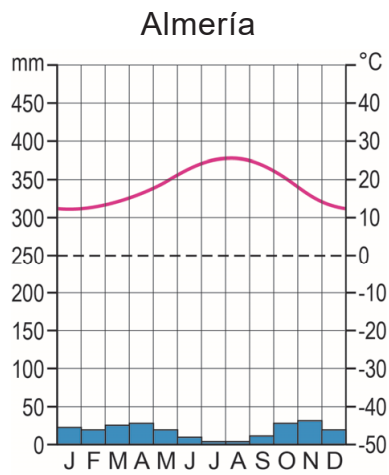
In bron 5 staat achter de cijfers 1, 2 en 3 een keuzemogelijkheid.

→ Neem de cijfers uit de tekst over op het antwoordblad en zet de juiste keuze erachter.

**bron 6**  
Spanje, reliëf



**bron 7**  
Drie klimaatgrafieken

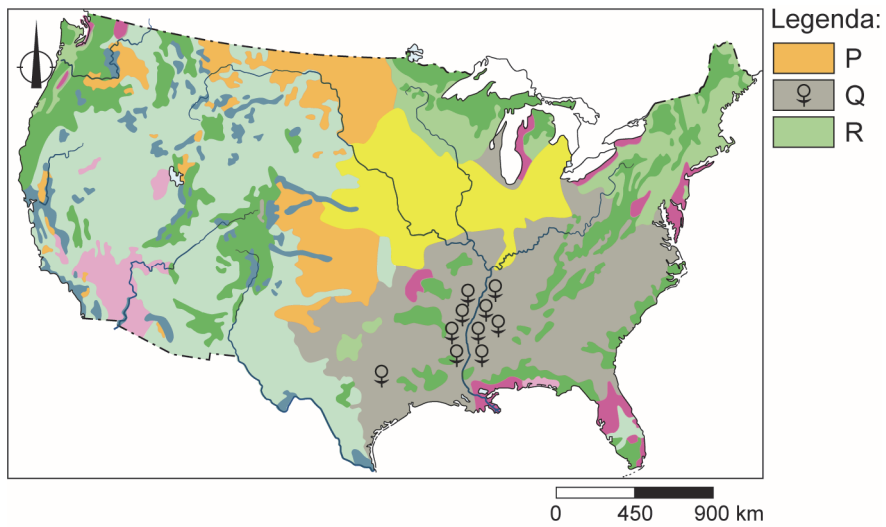


- 1p 7 Bekijk bron 6 en bron 7.  
Waar staan de plaatsnamen uit bron 6 en bron 7 juist bij het klimaat?

	<b>gematigd zeeklimaat</b>	<b>Middellandse Zeeklimaat</b>	<b>steppeklimaat</b>
<b>A</b>	Almería	Bilbao	Sevilla
<b>B</b>	Bilbao	Sevilla	Almería
<b>C</b>	Sevilla	Almería	Bilbao

- 1p 8 Bekijk bron 6 en bron 7.  
In het zuiden van Spanje is de kans op verwoestijning erg groot.  
→ Leg uit waar de kans op verwoestijning het grootst is, rondom Almería of Sevilla.  
*Doe het zo:*
- Kies eerst rondom **Almería** of **Sevilla**.
  - Geef daarna een natuurlijke oorzaak voor de grote kans op verwoestijning bij die plaats.

**bron 8**  
Verenigde Staten, landbouwgebieden



**bron 9**  
Foto's van landbouwgebieden in de Verenigde Staten

foto 1



foto 2



foto 3





1p 9

Bekijk bron 8 en bron 9.

In bron 8 zijn met de letters P, Q en R drie landbouwgebieden aangegeven.

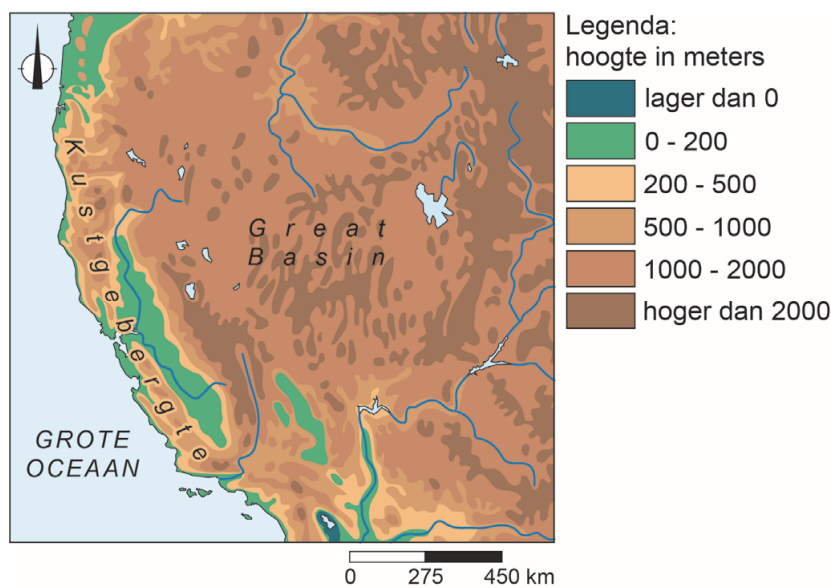
In bron 9 staan drie foto's die bij deze landbouwgebieden horen.

Waar staan de landbouwgebieden juist bij de foto's?

	foto 1	foto 2	foto 3
A	P	Q	R
B	P	R	Q
C	Q	P	R
D	Q	R	P

### bron 10

Zuidwesten van de Verenigde Staten



### bron 11

Tekst met keuzemogelijkheden

Langs de westkust van de Verenigde Staten strekt het Kustgebergte zich uit van noord naar zuid.

De ... 1 ... (aanlandige / aflandige) wind zorgt ervoor dat regen aan de westzijde van het Kustgebergte valt. Aan de oostkant van het Kustgebergte ligt het droge Great Basin.

De woestijnen in het Great Basin liggen aan de ... 2 ... (lijzijde / loefzijde) van de bergen.

Ten noorden van het Kustgebergte is de gemiddelde temperatuur ... 3 ... (hoger / lager) dan ten zuiden van het Kustgebergte.

2p 10

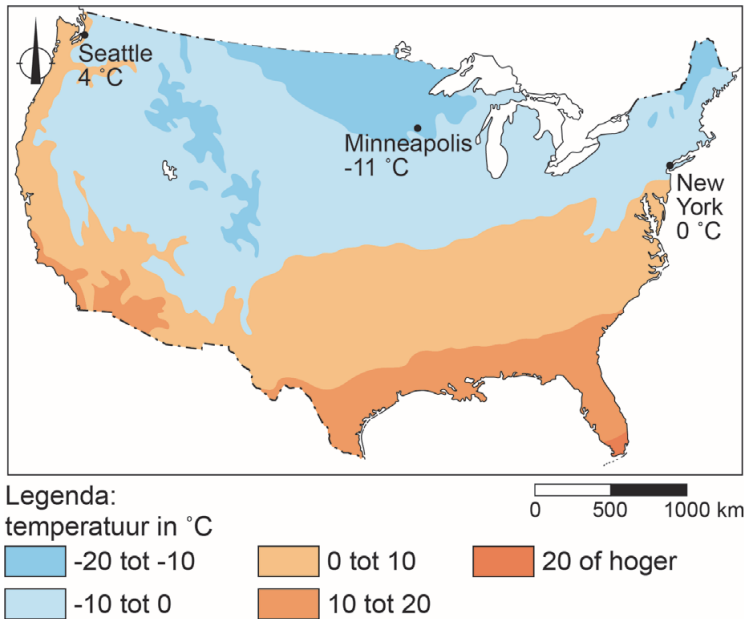
Bekijk bron 10 en lees bron 11.

In bron 11 staan achter de cijfers 1, 2 en 3 een keuzemogelijkheid.

→ Neem de cijfers uit de tekst over op het antwoordblad en zet de juiste keuze erachter.

## bron 12

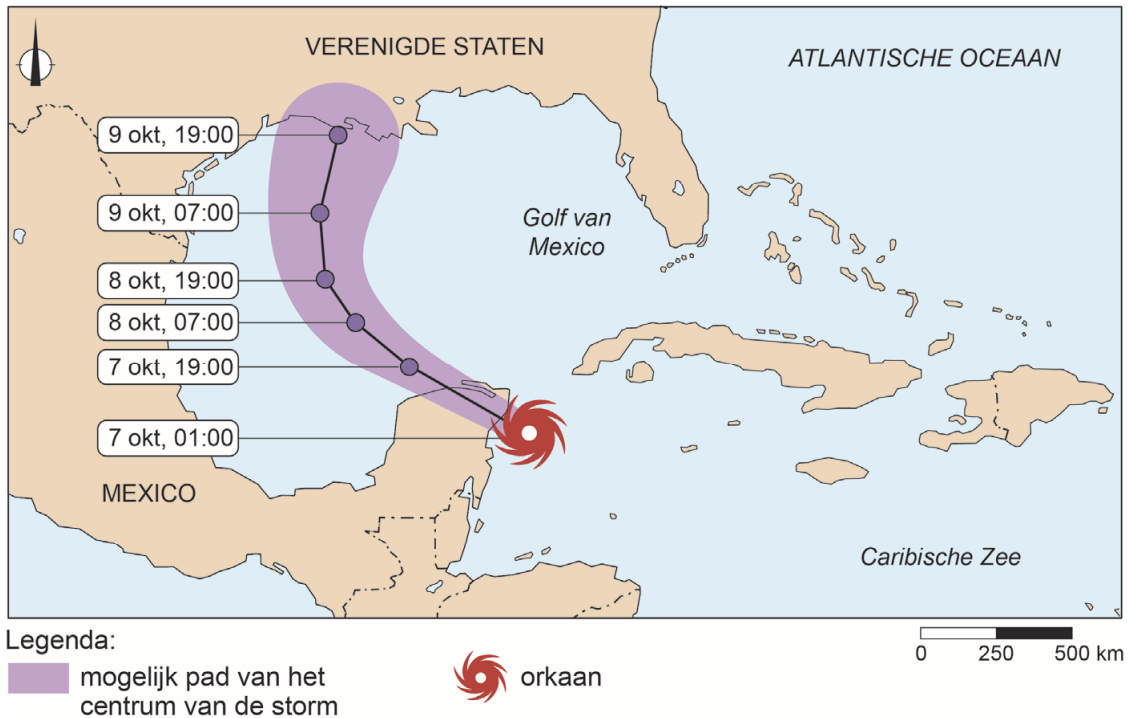
Verenigde Staten, gemiddelde temperatuur in januari



- 1p 11 Bekijk bron 12.  
Over de gemiddelde temperatuur in januari in de Verenigde Staten worden twee uitspraken gedaan.  
Uitspraak 1: een overheersend hogedrukgebied in de buurt van Minneapolis draagt bij aan een lage temperatuur in januari.  
Uitspraak 2: in de stad New York is het door de overheersende afluiddige wind in januari kouder dan in Seattle.  
→ Neem de cijfers 1 en 2 van de uitspraken over op het antwoordblad en zet erachter of de uitspraak juist of onjuist is.
- 1p 12 In de staat California wonen steeds meer mensen aan de randen van bossen. Deze bewoners zijn extra kwetsbaar tijdens bosbranden. Bewoners kunnen voorzorgsmaatregelen nemen door alle struiken en bomen binnen 10 meter van het huis te verwijderen. Bij het nemen van voorzorgsmaatregelen worden ze ook geholpen door de staat California.  
→ Noem nog een voorzorgsmaatregel die de staat California kan nemen om bewoners te helpen om brandschade te voorkomen.

### bron 13

Kaart uit een krantenartikel van 7 oktober 2020



- 1p 13 Bekijk bron 13.  
Tussen 7 oktober 2020 en 9 oktober 2020 koerst orkaan Delta af op de Amerikaanse zuidkust. Delta kan uitgroeien tot een 'uiterst gevaarlijke' orkaan.  
→ Geef de oorzaak waardoor orkaan Delta in kracht kan toenemen.
- 1p 14 Voordat orkaan Delta aan land kwam, werden bewoners van het kustgebied in de Verenigde Staten geëvacueerd. Evacuatie is een maatregel om het aantal slachtoffers van een orkaan te beperken. Toch willen niet alle bewoners evacueren.  
→ Geef een reden vanuit de risicoperceptie van kustbewoners om toch thuis te blijven wanneer een orkaan overtrekt.
- 2p 15 Wanneer een orkaan aan land komt, heeft dat grote gevolgen voor de bevolking en de economie in het zuidoosten van de Verenigde Staten.  
→ Noem eerst een **sociaal** gevolg en daarna een **economisch** gevolg voor de bevolking in het zuidoosten van de Verenigde Staten als een orkaan aan land komt.

## bron 14

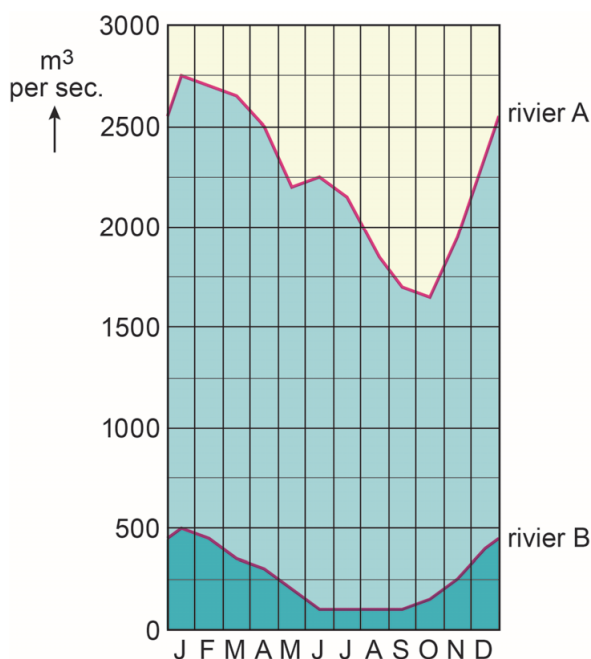
Tekst met keuzemogelijkheden

Al het water op aarde maakt onderdeel uit van de waterkringloop. De motor achter deze kringloop is ... **1** ... (de zon / het warme zeewater). Het meeste water op aarde bevindt zich in de ... **2** ... (meren, rivieren en moerassen / oceanen). Het grootste deel van al het zoet water op aarde is ... **3** ... (aanwezig in oppervlaktewater / opgeslagen als sneeuw en ijs).

- 2p **16** Lees bron 14.  
In bron 14 staat achter de cijfers 1, 2 en 3 een keuzemogelijkheid.  
→ Neem de cijfers uit de tekst over op het antwoordblad en zet de juiste keuze erachter.

## bron 15

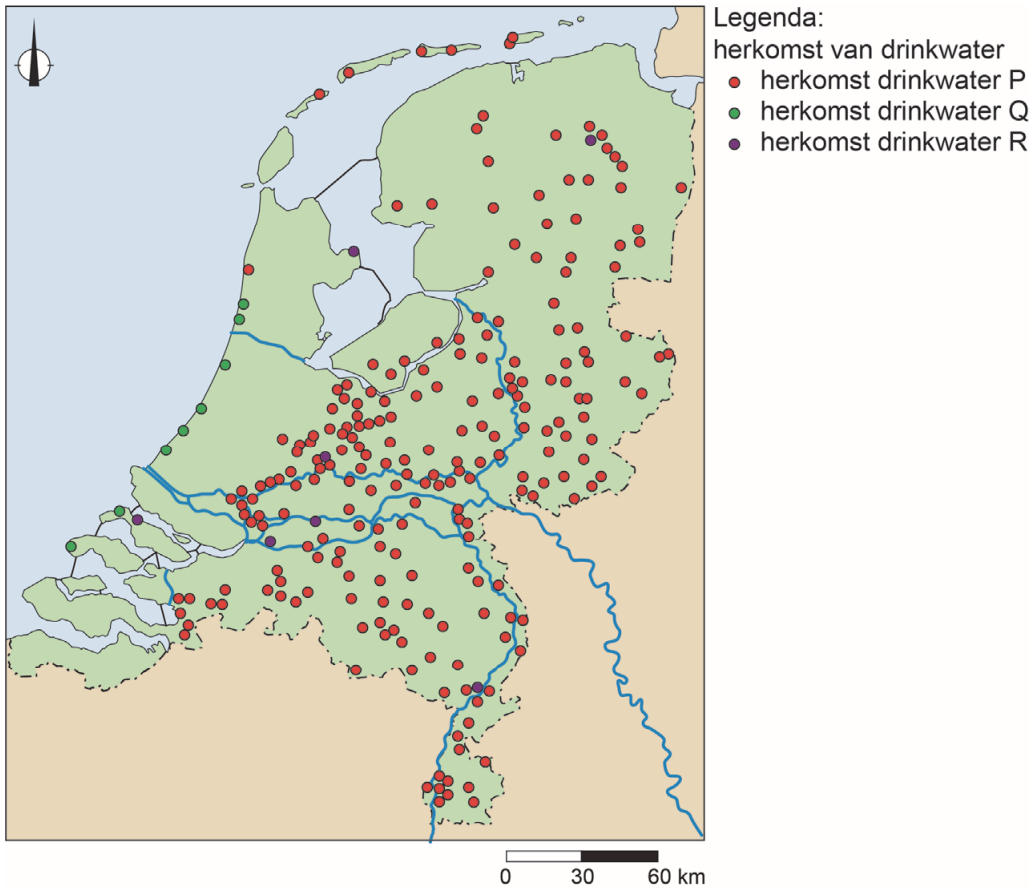
Debietverloop van twee Nederlandse rivieren



- 1p **17** Bekijk bron 15.  
Over bron 15 worden twee uitspraken gedaan.  
Uitspraak 1: de gegevens van rivier A horen bij de Maas, de gegevens van rivier B horen bij de Rijn.  
Uitspraak 2: de lagere waterafvoer in de zomer wordt ook veroorzaakt doordat de verdamping veel hoger is dan in de winter.  
→ Neem de cijfers 1 en 2 van de uitspraken over op het antwoordblad en zet erachter of de uitspraak juist of onjuist is.

## bron 16

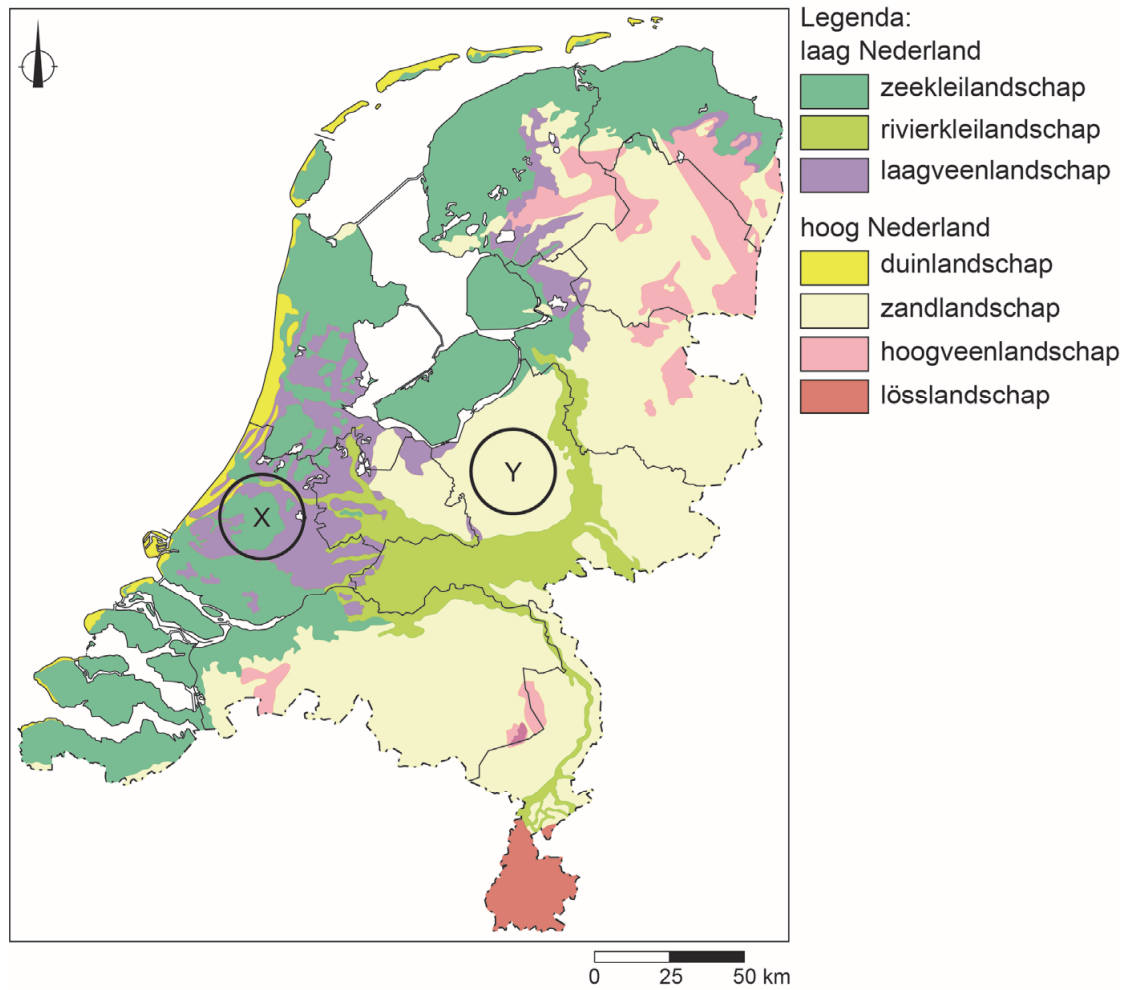
### Drinkwaterwinning in Nederland



- 1p 18 Bekijk bron 16.  
In Nederland wordt op verschillende manieren drinkwater gewonnen.  
Waar staan de vormen van drinkwaterwinning juist bij de  
legenda-omschrijving?

	herkomst drinkwater P	herkomst drinkwater Q	herkomst drinkwater R
A	duinwater	grondwater	oppervlaktewater
B	duinwater	oppervlaktewater	grondwater
C	grondwater	duinwater	oppervlaktewater
D	grondwater	oppervlaktewater	duinwater
E	oppervlaktewater	duinwater	grondwater
F	oppervlaktewater	grondwater	duinwater

**bron 17**  
Landschappen in Nederland



- 1p 19 Bekijk bron 17.  
In bron 17 zijn in twee verschillende landschappen een X en een Y geplaatst.  
Bij een gelijke hoeveelheid neerslag zal in een van de gebieden minder  
verdroging van landbouwgronden plaatsvinden.  
→ Beargumenteer of gebied X of gebied Y het **minst** last heeft van  
verdroging.  
*Doe het zo:*
- Kies eerst gebied X of gebied Y.
  - Geef daarna met behulp van bron 17 een argument voor je keuze.

### bron 18

Zeeschip in de zeehaven van Rotterdam



### bron 19

Binnenvaartschip op de Nieuwe Maas bij Rotterdam

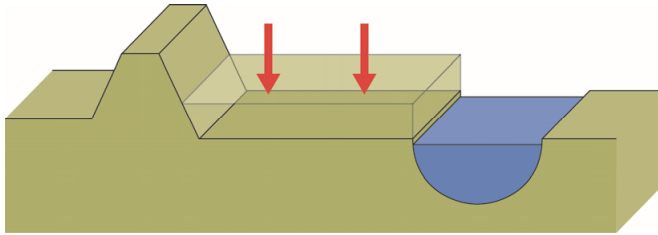


- 1p 20 Bekijk bron 18 en bron 19.  
In de Rotterdamse haven worden containers overgezet tussen het zeeschip van bron 18 en het binnenvaartschip van bron 19. Het binnenvaartschip vervoert de containers verder landinwaarts.  
→ Geef aan waarom het gebruik van binnenvaartschepen noodzakelijk is.
- 1p 21 De Waal is een belangrijke transportader voor het vervoer van goederen tussen de Rotterdamse haven en het Ruhrgebied.  
→ Geef een voordeel van het goederentransport over de rivier ten opzichte van het goederentransport over de weg.

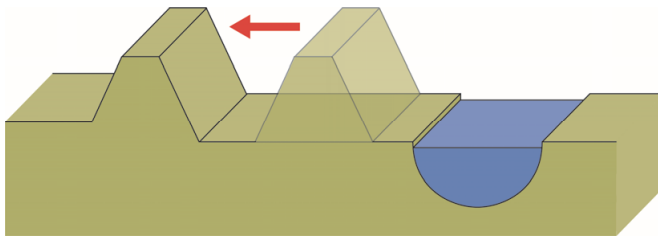
## bron 20

Maatregelen in het kader van het project Ruimte voor de Rivier

uiterwaardvergraving



dijkverlegging



2p 22

Bekijk bron 20.

Over bron 20 worden drie uitspraken gedaan.

Uitspraak 1: na uiterwaardvergraving neemt het waterbergend vermogen van het buitendijks gebied toe.

Uitspraak 2: dijkverlegging wordt vooral toegepast in dichtbevolkte gebieden.

Uitspraak 3: wanneer Duitsland uiterwaardvergraving en dijkverlegging toepast langs de Rijn, wordt de kans op overstromingen in Nederland groter.

→ Neem de cijfers 1, 2 en 3 van de uitspraken over op het antwoordblad en zet erachter of de uitspraak juist of onjuist is.



## bron 21

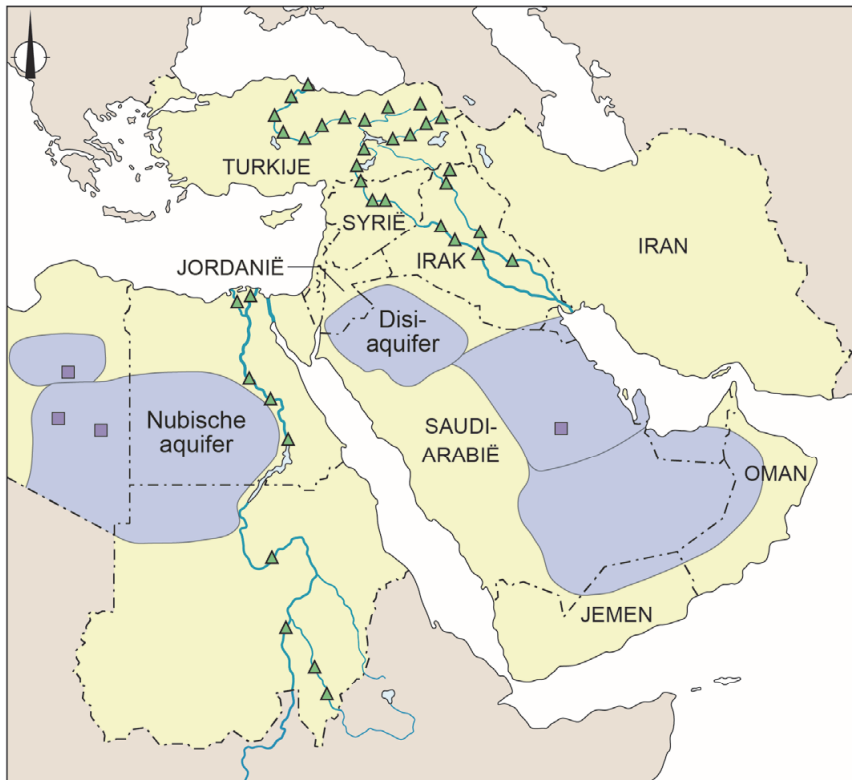
### Cirkelirrigatie in woestijngebieden



- 2p **23** Bekijk bron 21.  
Cirkelirrigatie is een vorm van beregening die je vaak in woestijngebieden tegenkomt.  
Naar aanleiding van bron 21 worden drie uitspraken gedaan.  
Uitspraak 1: in woestijngebieden wordt voor irrigatie vooral grondwater gebruikt.  
Uitspraak 2: verzilting is nadelig voor de opbrengst van een akker.  
Uitspraak 3: door cirkelirrigatie gaat verzilting van de bodem in woestijngebieden sneller dan door druppelirrigatie.  
→ Neem de cijfers 1, 2 en 3 van de uitspraken over op het antwoordblad en zet erachter of de uitspraak juist of onjuist is.
- 1p **24** In veel landen van het Midden-Oosten zijn watertekorten. Deze watertekorten zullen steeds groter worden door onder andere een hoge bevolkingsgroei.  
→ Geef een economische reden waarom de watertekorten in het Midden-Oosten steeds groter worden.

## bron 22

### Waterprojecten in het Midden-Oosten



Legenda:

- ▲ stuwdam
- winning ondergronds fossiel water
- aquifer
- ~ rivieren

0 250 500 km

- 1p **25** Bekijk bron 22.  
In de bovenloop van de Eufraat en de Tigris zijn meer stuwdammen gebouwd dan in de benedenloop.  
→ Noem het landschapskenmerk in de bovenloop van de rivieren waardoor daar stuwdammen aangelegd zijn.
- 1p **26** Bekijk bron 22.  
Wanneer Saudi-Arabië teveel water uit de aquifers haalt, kan met de omliggende landen een conflict ontstaan.  
→ Geef met behulp van bron 22 een reden voor een mogelijk conflict.

### bron 23

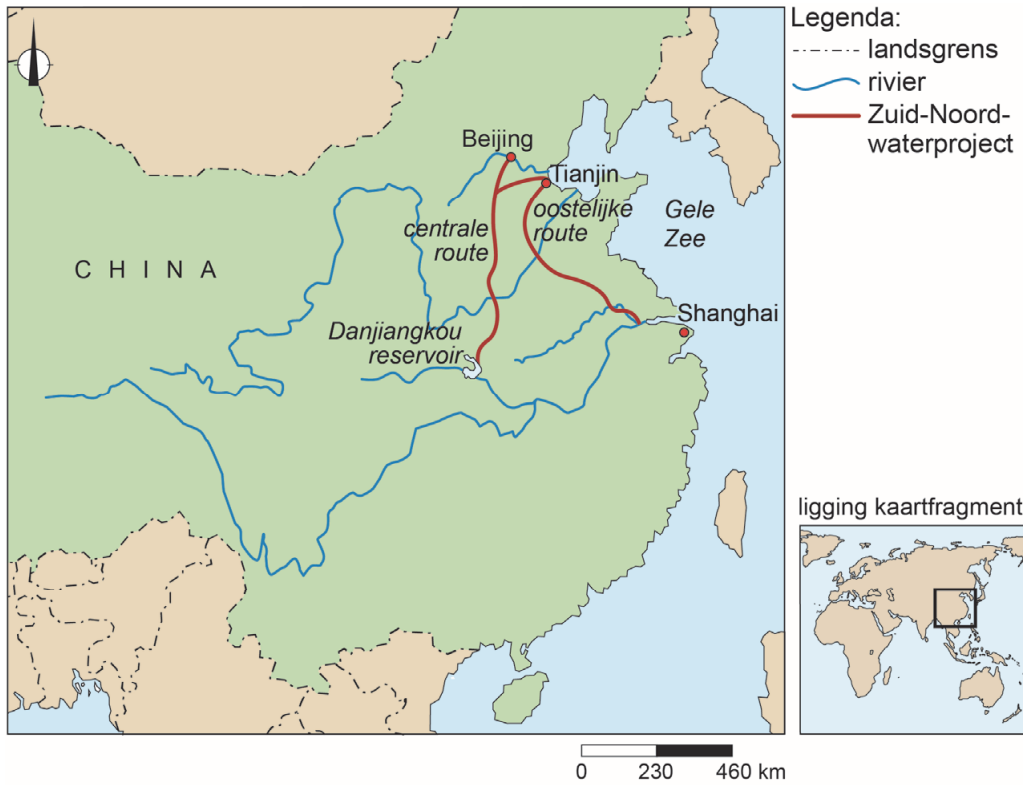
#### Turkije, bodemgebruik en waterbeheer



2p 27 Bekijk bron 23.  
In het zuidoosten van Turkije bouwt de Turkse overheid veel stuwdammen. De Turkse overheid wil daarmee de economische ontwikkeling in Zuidoost-Turkije stimuleren.  
→ Geef twee economische redenen voor de Turkse overheid om de stuwdammen te bouwen.

2p 28 Bekijk bron 23.  
De Turkse overheid ziet veel voordelen in de bouw van de stuwdammen. Toch zijn onder de lokale bevolking en de bevolking in de buurlanden ook veel tegenstanders.  
→ Noteer 'lokale bevolking' en 'bevolking Irak en Syrië' onder elkaar op het antwoordblad en zet erachter waarom ze tegen de bouw van de stuwdammen zijn.

**bron 24**  
Het Zuid-Noord-waterproject



**bron 25**  
Kanaal van het Zuid-Noord-waterproject



2p 29 Bekijk bron 24 en bron 25.

De Chinese hoofdstad Beijing heeft regelmatig te kampen met watertekorten. Om de stad van water te voorzien, wordt water vanuit het Danjiangkou-reservoir via kanalen richting Beijing getransporteerd. Deze kanalen maken deel uit van het Zuid-Noord-waterproject.

Over het Zuid-Noord-waterproject en het Danjiangkou-reservoir worden de volgende uitspraken gedaan.

Uitspraak 1: het Danjiangkou-reservoir wordt vooral gevuld met rivierwater en neerslag.

Uitspraak 2: het transporteren van het water via open kanalen is een voorbeeld van duurzaam watergebruik.

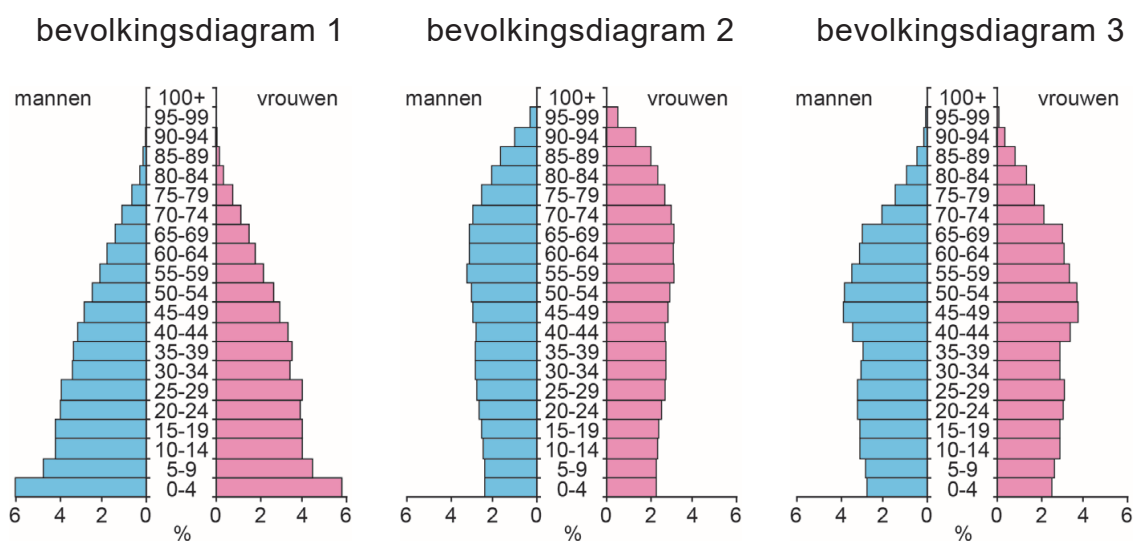
Uitspraak 3: in het zuiden van China is in het algemeen minder waterschaarste dan in het noorden van China.

→ Neem de cijfers 1, 2 en 3 van de uitspraken over op het antwoordblad en zet erachter of de uitspraak juist of onjuist is.

# Bevolking en ruimte

## bron 26

Nederland, drie bevolkingsdiagrammen



1p 30 Bekijk bron 26.

In bron 26 staan drie bevolkingsdiagrammen van Nederland van 1950, 2015 en 2060 (prognose). De bevolkingsdiagrammen staan in willekeurige volgorde.

Waar staat bij elk jaar het juiste bevolkingsdiagram?

	1950	2015	2060
A	bevolkingsdiagram 1	bevolkingsdiagram 2	bevolkingsdiagram 3
B	bevolkingsdiagram 1	bevolkingsdiagram 3	bevolkingsdiagram 2
C	bevolkingsdiagram 2	bevolkingsdiagram 1	bevolkingsdiagram 3
D	bevolkingsdiagram 2	bevolkingsdiagram 3	bevolkingsdiagram 1
E	bevolkingsdiagram 3	bevolkingsdiagram 1	bevolkingsdiagram 2
F	bevolkingsdiagram 3	bevolkingsdiagram 2	bevolkingsdiagram 1

1p 31 Bekijk bron 26.

De leeftijdsopbouw van de bevolking heeft invloed op de voorzieningen in Nederland. Bij een van de bevolkingsdiagrammen moet geïnvesteerd worden in de zorg.

→ Beargumenteer bij welk bevolkingsdiagram extra geïnvesteerd moet worden in de ouderenzorg.

*Doe het zo:*

- Kies eerst **bevolkingsdiagram 1** of **bevolkingsdiagram 2**.
- Geef daarna met behulp van het bevolkingsdiagram een argument voor je keuze.

**bron 27**

Nederland, bevolkingsontwikkeling in absolute aantallen in november 2019

natuurlijke bevolkingsgroei	... X ...
sociale bevolkingsgroei	7.129
totale bevolkingsgroei	7.789

1p 32 Bekijk bron 27.

Bron 27 gaat over de bevolkingsontwikkeling in absolute aantallen van Nederland van november 2019. De natuurlijke bevolkingsgroei is aangegeven met een X.

Over bron 27 worden twee uitspraken gedaan.

Uitspraak 1: in november 2019 waren in Nederland meer geboorten dan sterfgevallen.

Uitspraak 2: in november 2019 emigreerden meer mensen dan er immigrerden.

→ Neem de cijfers 1 en 2 van de uitspraken over op het antwoordblad en zet erachter of de uitspraak juist of onjuist is.

**bron 28**

Foto's van vier wijken in Utrecht

foto 1



foto 2



foto 3



foto 4



1p 33

Bekijk bron 28.

In bron 28 zijn foto's van vier wijken in Utrecht te zien.

Waar staan de wijken op de foto's in bron 28 in de juiste volgorde van oudste bouwperiode naar jongste bouwperiode?

- A 4 - 1 - 2 - 3
- B 4 - 1 - 3 - 2
- C 4 - 2 - 3 - 1
- D 4 - 3 - 1 - 2



## bron 29

### Doortrekken snelweg A15



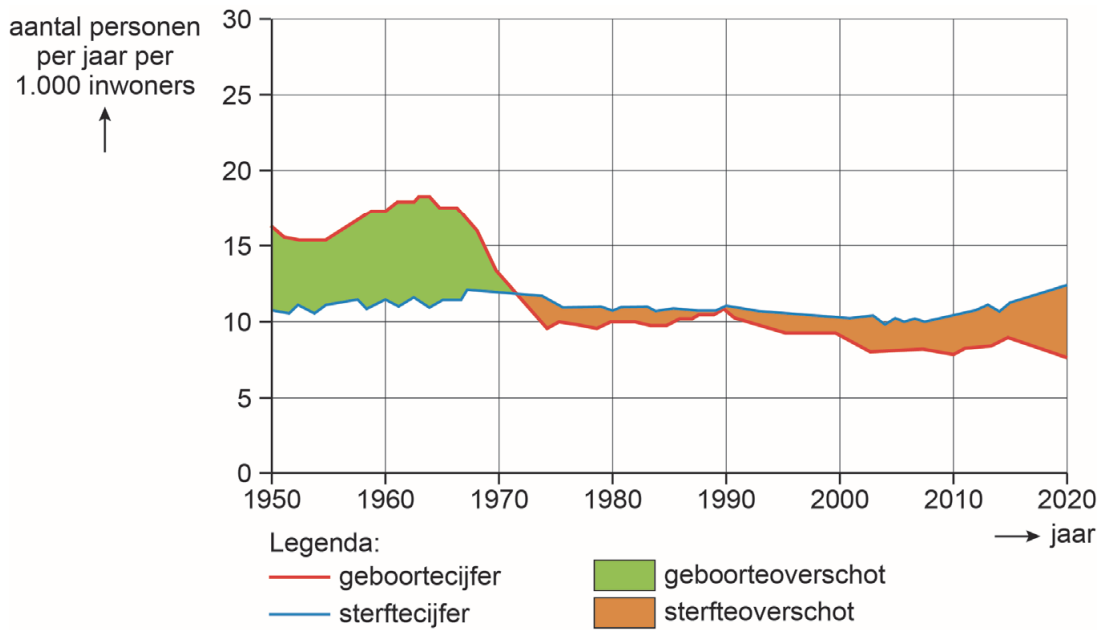
2p 34 Bekijk bron 29.

De snelweg A15 wordt verlengd zodat deze aansluit op de snelweg A12. Het verlengen van de A15 heeft voordelen en nadelen.

- Noem een **voordeel** voor inwoners van Duiven van het aansluiten van de snelweg A15 op de snelweg A12.
- Noem een **nadeel** voor inwoners van Duiven van het aansluiten van de snelweg A15 op de snelweg A12.

### bron 30

#### Geboorte en sterfte in Duitsland sinds 1950



1p 35 Bekijk bron 30.

In bron 30 is de natuurlijke bevolkingsontwikkeling van Duitsland weergegeven.

Naar aanleiding van bron 30 worden twee uitspraken gedaan.

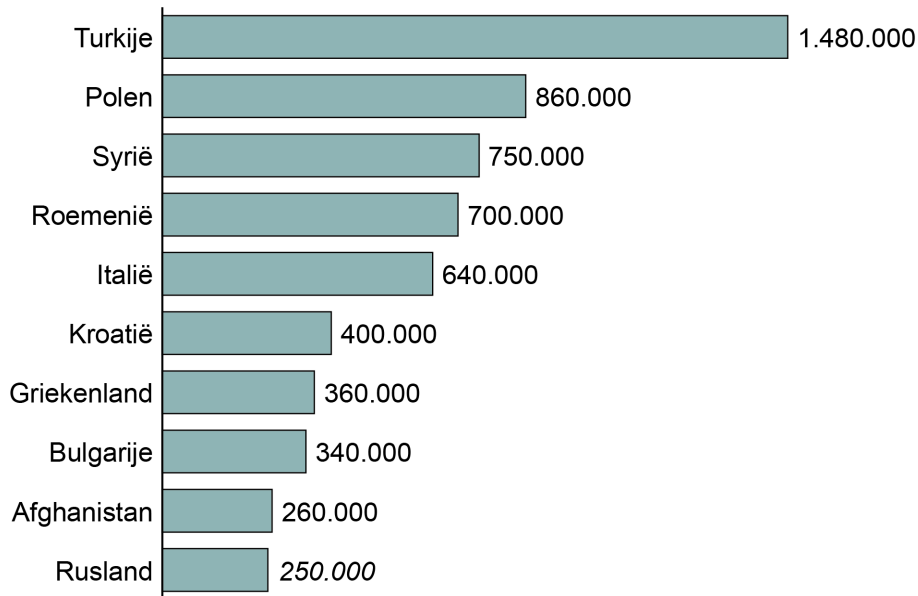
Uitspraak 1: na 1950 kende de Duitse bevolking eerst een sterfteoverschot en daarna een geboorteoverschot.

Uitspraak 2: het sterfteoverschot neemt toe door de vergrijzing van de Duitse bevolking.

→ Neem de cijfers 1 en 2 van de uitspraken over op het antwoordblad en zet erachter of de uitspraak juist of onjuist is.

### bron 31

Aantallen migranten per herkomstland in Duitsland, 2018



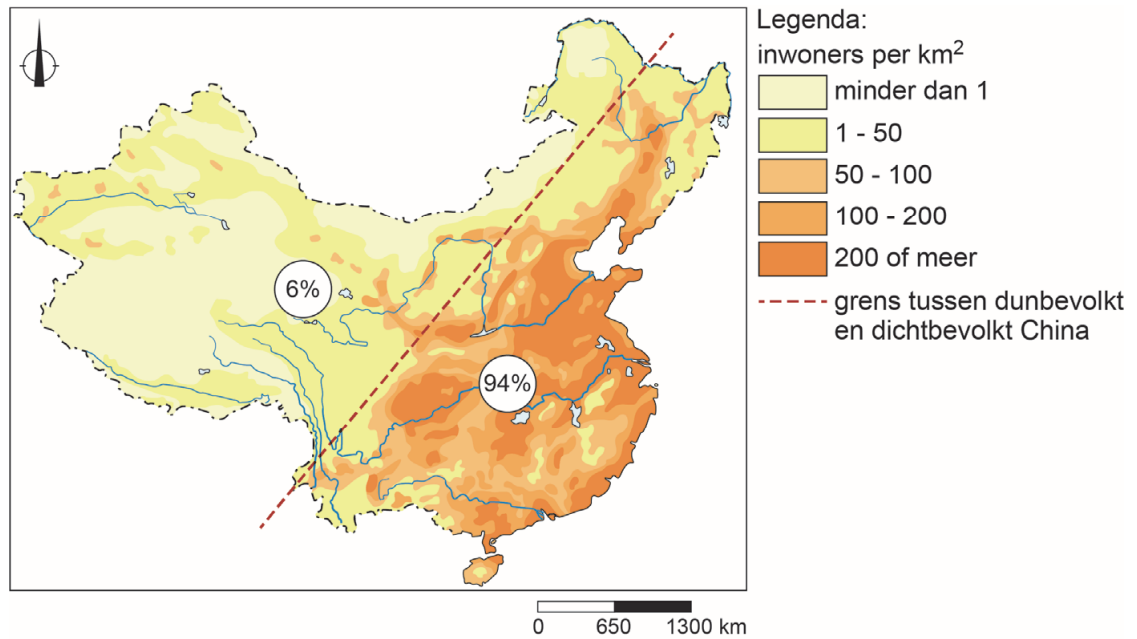
1p **36** Bekijk bron 31.

In bron 31 zijn de aantallen migranten per herkomstland weergegeven. Migranten uit Syrië en Afghanistan waren in de meeste gevallen vluchtelingen. De overige bevolkingsgroepen hadden vaak een andere reden om naar Duitsland te migreren.

→ Noem een reden voor de overige bevolkingsgroepen om naar Duitsland te migreren.

### bron 32

#### China, bevolkingsspreiding



2p 37 Bekijk bron 32.

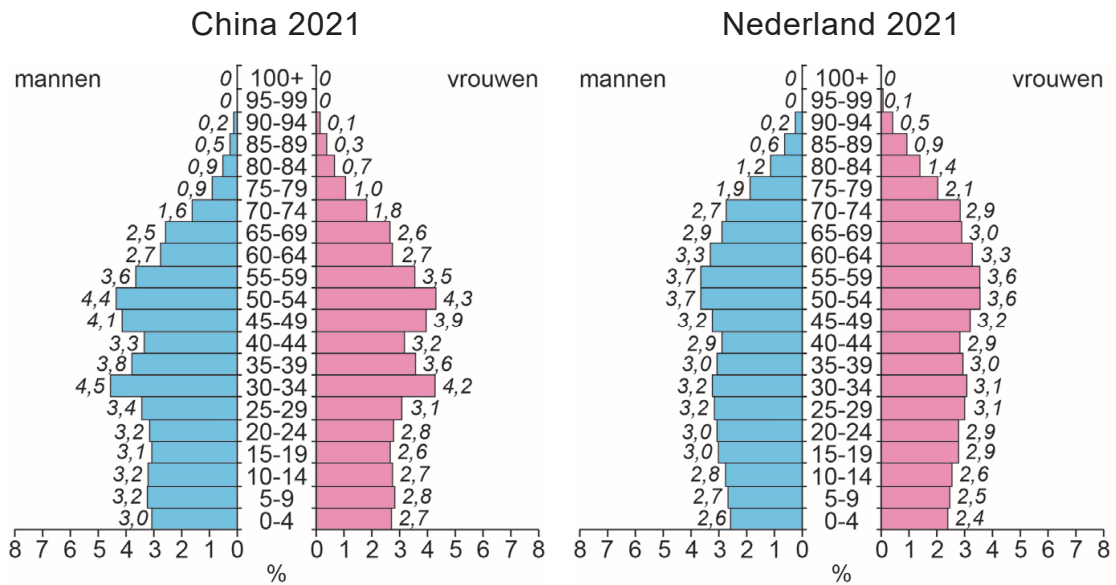
In bron 32 staat een stippellijn op de kaart. De lijn geeft de grens aan tussen het dunbevolkte en het dichtbevolkte deel van China. Van de totale bevolking woont 6 procent in het dunbevolkte deel en 94 procent in het dichtbevolkte deel van China.

De ongelijkmatige verdeling van de bevolking over China heeft zowel een natuurlijke als een economische reden.

- Geef eerst een **natuurlijke** reden waarom maar 6% van de Chinezen in het westen van China woont.
- Geef vervolgens een **economische** reden waarom 94% van de Chinezen in het oosten van China woont.

### bron 33

#### Twee bevolkingsdiagrammen



1p 38 Bekijk bron 33.

Over bron 33 worden twee uitspraken gedaan.

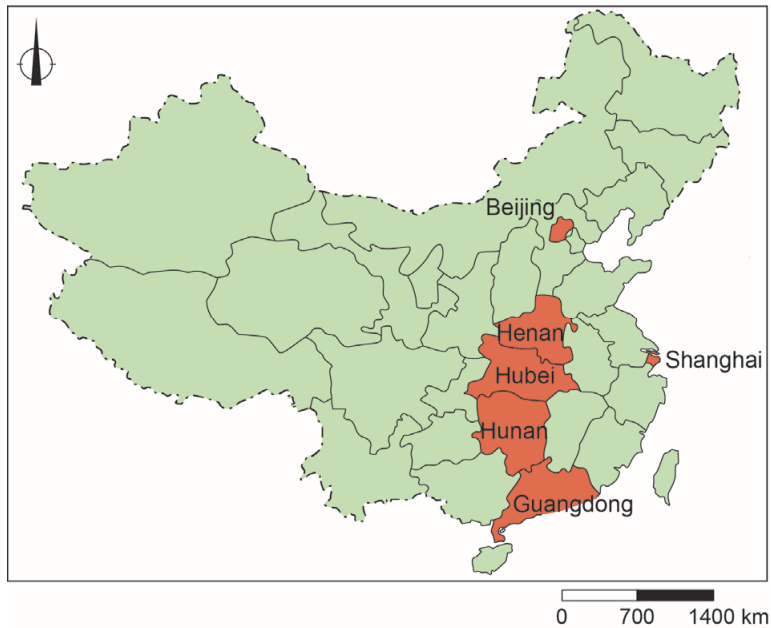
Uitspraak 1: in 2021 is in China en in Nederland het aandeel mannen tussen 0 en 14 jaar groter dan het aandeel vrouwen tussen 0 en 14 jaar.

Uitspraak 2: China heeft in absolute aantallen meer 85 tot 89-jarige inwoners dan Nederland.

→ Neem de cijfers 1 en 2 van de uitspraken over op het antwoordblad en zet erachter of de uitspraak juist of onjuist is.

### bron 34

Herkomst- en bestemmingsgebieden van Chinese reizigers tijdens Chinees Nieuwjaar



### bron 35

Tekst met keuzemogelijkheden

Het Chinees Nieuwjaar begint elk jaar tussen 21 januari en 20 februari en duurt vijftien dagen. Het staat bekend als de grootste menselijke migratie ter wereld. Het feest wordt met familie gevierd en veel bedrijven sluiten dan de deuren.

Door de grote trek naar ... **1** ... (de stad / het platteland) sinds 1980, wonen families ver uit elkaar. De grootste stromen reizigers vertrekken voor het feest uit ... **2** ... (Beijing, Shanghai en Guandong / Henan, Hubei en Hunan) naar hun familie. De reis wordt door de meeste Chinezen afgelegd met ... **3** ... (de auto / het vliegtuig).

2p **39** Bekijk bron 34 en lees bron 35.

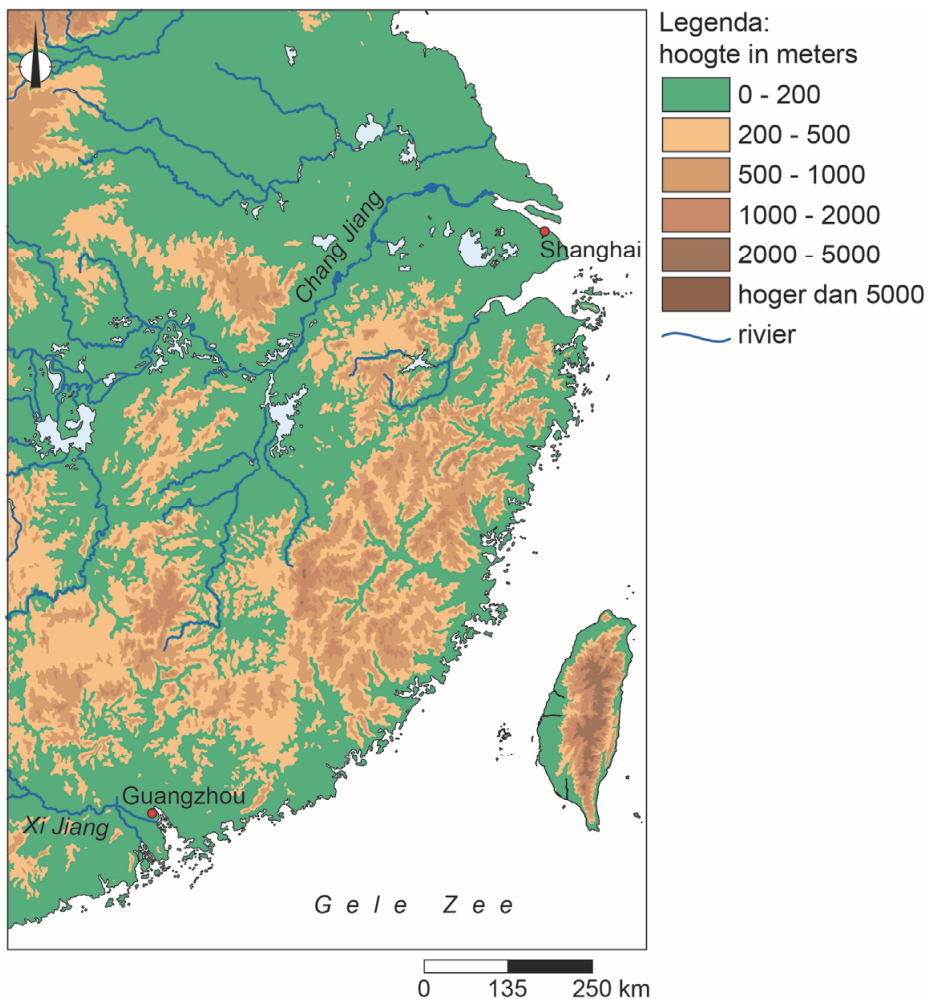
In bron 35 staat achter de cijfers 1, 2 en 3 een keuzemogelijkheid.

→ Neem de cijfers uit de tekst over op het antwoordblad en zet de juiste keuze erachter.

- 1p 40 In Chinese steden met minder dan 3 miljoen inwoners zal het hukou-systeem worden versoepeld. Hier worden twee uitspraken over gedaan.  
Uitspraak 1: meer stadsbewoners krijgen recht op huisvesting door versoepeling van het hukou-systeem.  
Uitspraak 2: door de versoepeling van het hukou-systeem zal de vraag naar woningen toenemen in steden met minder dan 3 miljoen inwoners.  
→ Neem de cijfers van de uitspraken over op het antwoordblad en zet erachter of de uitspraak juist of onjuist is.

**bron 36**

Oostkust van China



- 1p 41 Bekijk bron 36.  
De stedelijke zones van Guangzhou en Shanghai danken allebei hun economische groei onder andere aan een gunstige natuurlijke ligging.  
→ Geef de overeenkomst in natuurlijke ligging tussen beide stedelijke zones.

**Let op: de laatste vraag van dit examen staat op de volgende pagina.**

**bron 37**  
Krantenartikel

**Mini Living Shanghai**

In een voormalige verffabriek in Shanghai worden wonen, werken en recreëren gecombineerd in een zo klein mogelijke ruimte. Het moet een thuis worden voor verschillende mensen. De tuinen, restaurants en winkels zijn ook voor bezoekers van buiten toegankelijk. Het project heeft als doel de overvolle Chinese steden aantrekkelijk te houden.

2p **42** Lees bron 37.

Over bron 37 worden drie uitspraken gedaan.

Uitspraak 1: Mini Living Shanghai is een voorbeeld van herinrichting.

Uitspraak 2: Mini Living Shanghai is een 'gated community'.

Uitspraak 3: door projecten als Mini Living Shanghai neemt in Shanghai het woon-werkverkeer toe.

→ Neem de cijfers 1, 2 en 3 van de uitspraken over op het antwoordblad en zet erachter of de uitspraak juist of onjuist is.

---

**Bronvermelding**

*Een opsomming van de in dit examen gebruikte bronnen, zoals teksten en afbeeldingen, is te vinden in het bij dit examen behorende correctievoorschrift, dat na afloop van het examen wordt gepubliceerd.*