

Examen VMBO-BB

2022

versie rood, onderdeel **C**

profielvak-cspe Z&W – BB

uitwerkbijlage

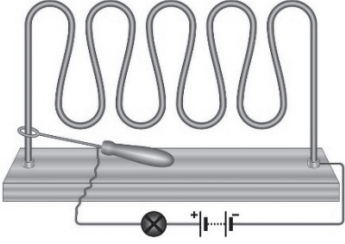




Naam kandidaat _____ Kandidaatnummer _____

Opdracht 3
Prijslijst Party & Co

Huur

<p>bibberspiraalspel</p> 	<p>hoefijzerspel</p> 	<p>springkussen</p> 
<p>per dag € 15,75</p>	<p>per dag € 32,50 nu tweede spel halve prijs</p>	<p>per dag € 106,50 nu 10% korting</p>

Koop

<p>bibberspiraalspel</p> 	<p>bingokaarten</p> 	
<p>per stuk € 165,25</p>	<p>set van 100 € 2,10 nu 2 sets voor € 3,10</p>	
<p>bingomolen</p> 	<p>hoefijzerspel</p> 	<p>sjoelbak</p> 
<p>per stuk € 52,95</p>	<p>per stuk € 72,50</p>	<p>per stuk € 60,25 nu 3 halen 2 betalen</p>
<p>kosten bezorgen en ophalen (ophalen alleen gehuurde artikelen): € 18,50 bij besteding van minder dan € 175,00 € 7,50 bij besteding van meer dan € 175,00</p>		

Kostenoverzicht activiteitendag

producten	aantal	berekening	prijs in €
huur bibberspiraalspel			
huur hoefijzerspel			
huur springkussen			
koop bingokaarten			
koop bingomolen			
koop sjoelbak			
		kosten	
		kosten bezorgen/ophalen	
		totale kosten	

Is € 425,00 voldoende om het materiaal voor de activiteitendag te kopen of te huren?

Noteer je berekening:

.....

.....

Kies het juiste antwoord en vul (indien nodig) het bedrag in:

- Ja, het is voldoende. Huize Kamenier houdt € over.
- Ja, het is precies genoeg.
- Nee, het is onvoldoende. Huize Kamenier komt € te kort.