

Bijlage HAVO
2019

tijdvak 1

aardrijkskunde

Bronnenboekje

Opgave 1 – Globalisering van Inditex

bron 1

Inditex

Met meer dan 7.000 winkels in meer dan 90 landen is Inditex het grootste modebedrijf ter wereld. Het hoofdkantoor staat in de Noord-Spaanse stad La Coruña. In tegenstelling tot veel andere kledingproducenten maakt Inditex veel van haar kleding in fabrieken in de nabijheid van het hoofdkantoor.

Inditex maakt vooral exclusieve en modieuze, maar ook betaalbare kleding. Onder Inditex vallen merken als Pull and Bear, Massimo Dutti en Uterqüe. Het meest bekend zijn de kledingwinkels van Zara. Inditex wil het kledingaanbod in de winkels van Zara zo snel en nauwkeurig mogelijk laten aansluiten op de allernieuwste modetrends. Hiervoor worden de wensen van klanten en de verkoopcijfers voortdurend in de gaten gehouden. Doordat de kledingproductie voor een groot deel plaatsvindt in het thuisland Spanje, kan Zara snel inspelen op de allernieuwste modetrends. Binnen twee weken kan een nieuw product ontworpen en geproduceerd zijn. Vanuit de distributiecentra liggen producten binnen 48 uur in de winkels.

INDITEX

ZARA ZARA HOME

Bershka oysho 

Pull and Bear Massimo Dutti

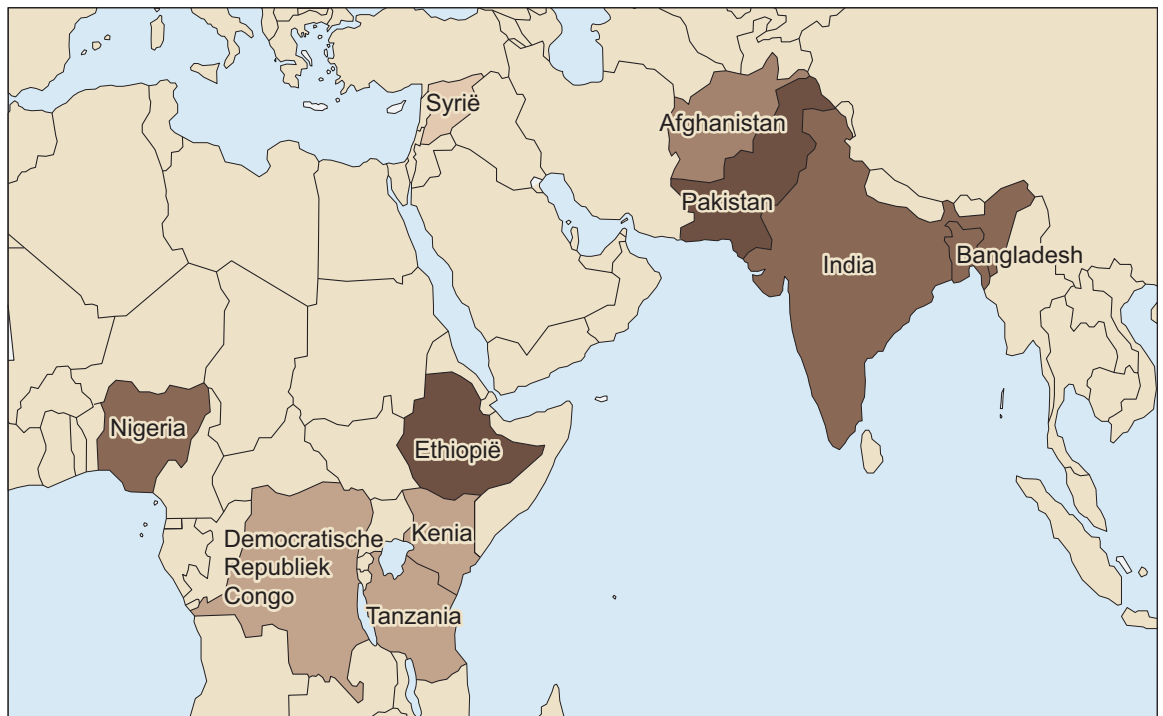
Kiddys Class

UTERQÜE

Opgave 2 – Groot-Brittannië stopt ontwikkelingshulp aan India

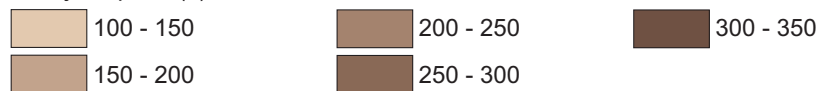
bron 1

Top 10 ontvangers ontwikkelingshulp van Groot-Brittannië in 2013



Legenda:

in miljoen pond (£)



bron 2

Groot-Brittannië stopt ontwikkelingshulp aan India

Sinds 2015 geeft Groot-Brittannië geen ontwikkelingshulp meer aan India. "Onze ontwikkelingssamenwerking moet in toenemende mate gaan over handel en het uitwisselen van kennis, niet over hulp." zei de Britse staatssecretaris van Internationale Ontwikkeling.

Groot-Brittannië is de derde investeerder in India en India heeft meer dan duizend bedrijven in Groot-Brittannië. De grootste daarvan is het Indiase staalbedrijf Tata. Tata is onder andere eigenaar van de Britse multinational Jaguar Land Rover Limited.


Veel Indiërs vonden de beëindiging van de ontwikkelingshulp te vroeg komen, maar er waren ook veel Indiërs die het besluit van Groot-Brittannië om te stoppen met ontwikkelingshulp om nationalistische redenen toejuichten.

Ook in Groot-Brittannië waren de meningen verdeeld. Sommigen vonden het, gezien de economische ontwikkelingen in beide landen, niet meer dan logisch de ontwikkelingshulp te stoppen.

Opgave 3 – Hawaii en de Azoren

bron 1

Mauna Kea, een vulkaan op Hawaii



Opgave 4 – Fossielen zoeken bij de Jurassic Coast

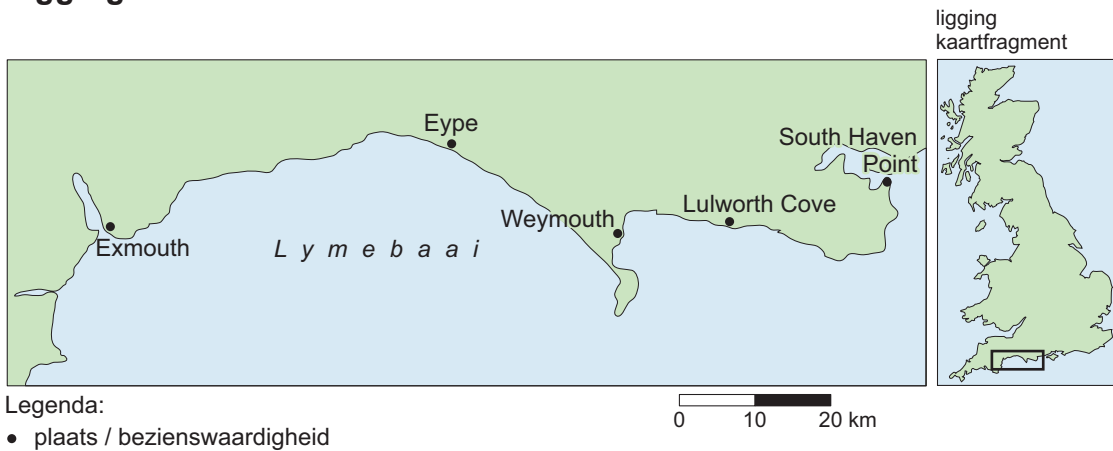
bron 1

Jurassic Coast

In het zuiden van Engeland ligt de Jurassic Coast. Deze kust, die tussen Exmouth en South Haven Point ligt, is 153 kilometer lang. De kust is bijzonder, omdat dit één van de weinige plekken op aarde is waar dicht bij elkaar fossielen uit het hele tijdvak van het Mesozoïcum gevonden worden.

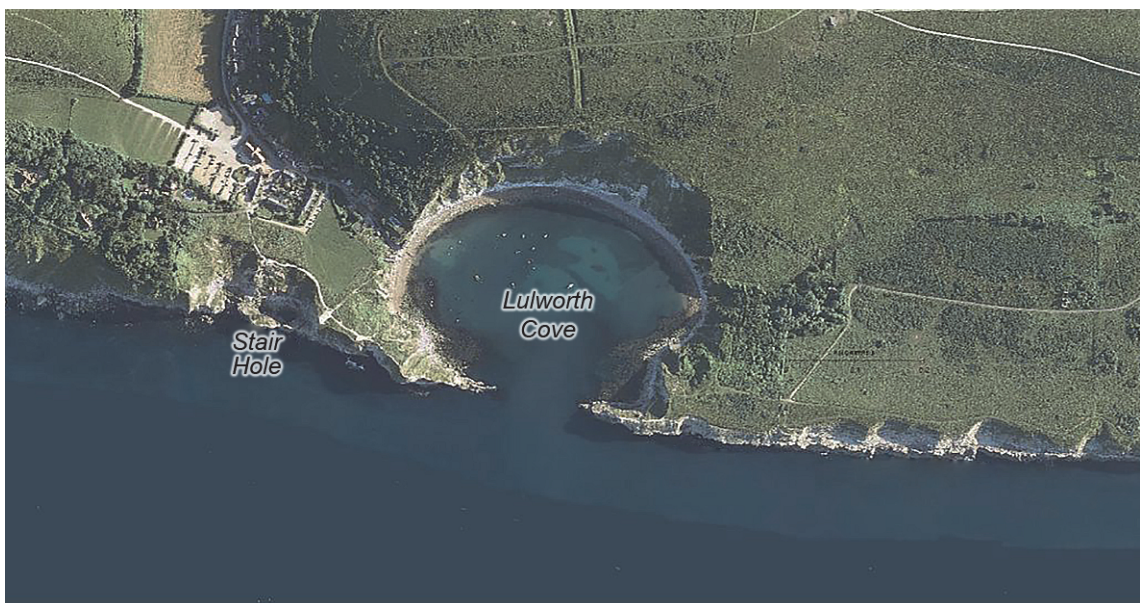
Bekende bezienswaardigheden langs de Jurassic Coast zijn de inham van 'Lulworth Cove' en 'Stair Hole' (zie de bronnen 2 en 3).

Ligging van de Jurassic Coast



bron 2

Luchtfoto van de Jurassic Coast



bron 3

Stair Hole aan de Jurassic Coast

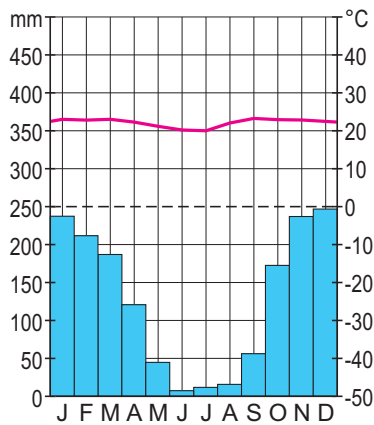


Opgave 5 – Klimaten en landschappen in Brazilië

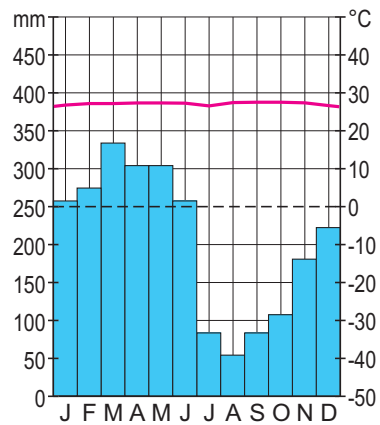
bron 1

Klimaatgrafieken van vier steden in Brazilië

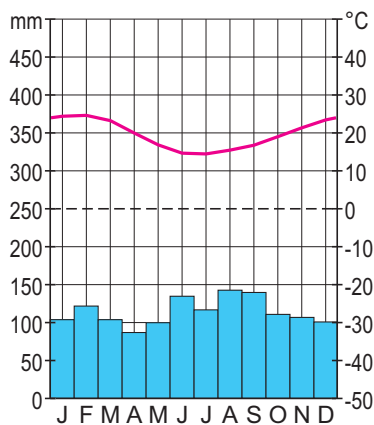
klimaatgrafiek a



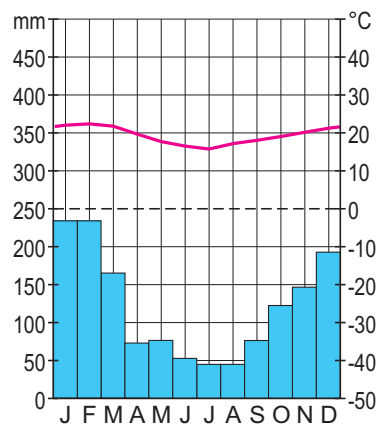
klimaatgrafiek b



klimaatgrafiek c



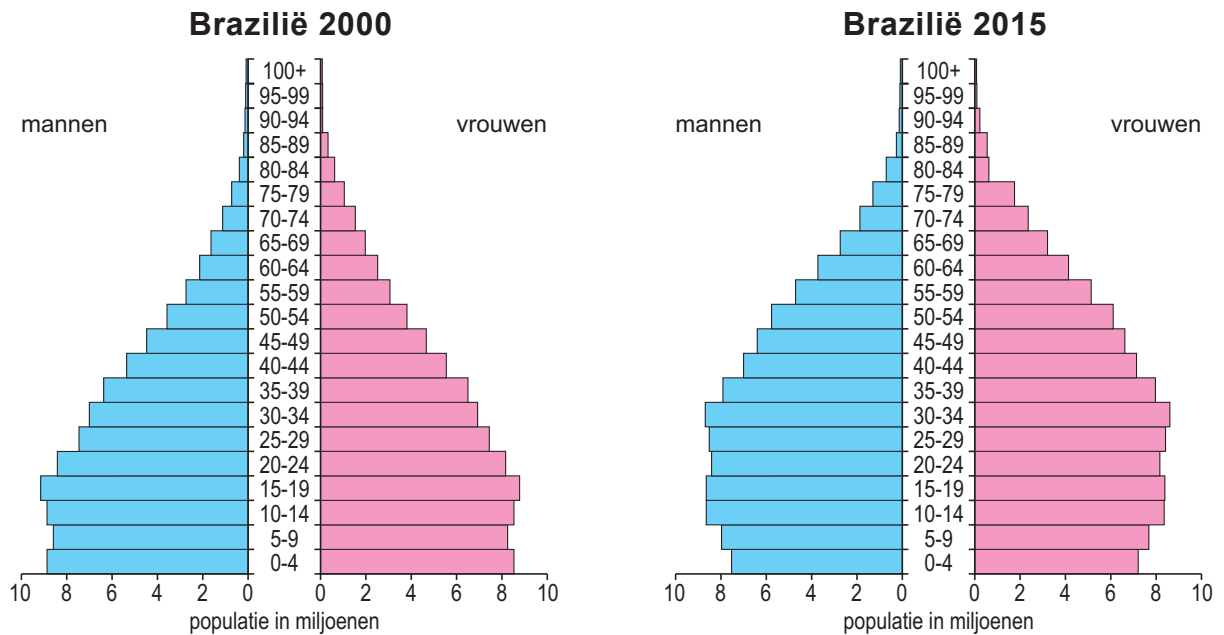
klimaatgrafiek d



Opgave 6 – Demografie en welvaart in Brazilië

bron 1

Bevolkingsdiagrammen van Brazilië



bron 2

Demografische indicatoren van Brazilië

	1995	2005	2015
aantal inwoners (in miljoenen)	162	187	206
geboortecijfer (in ‰)	22	18	14
sterftecijfer (in ‰)	6	6	7

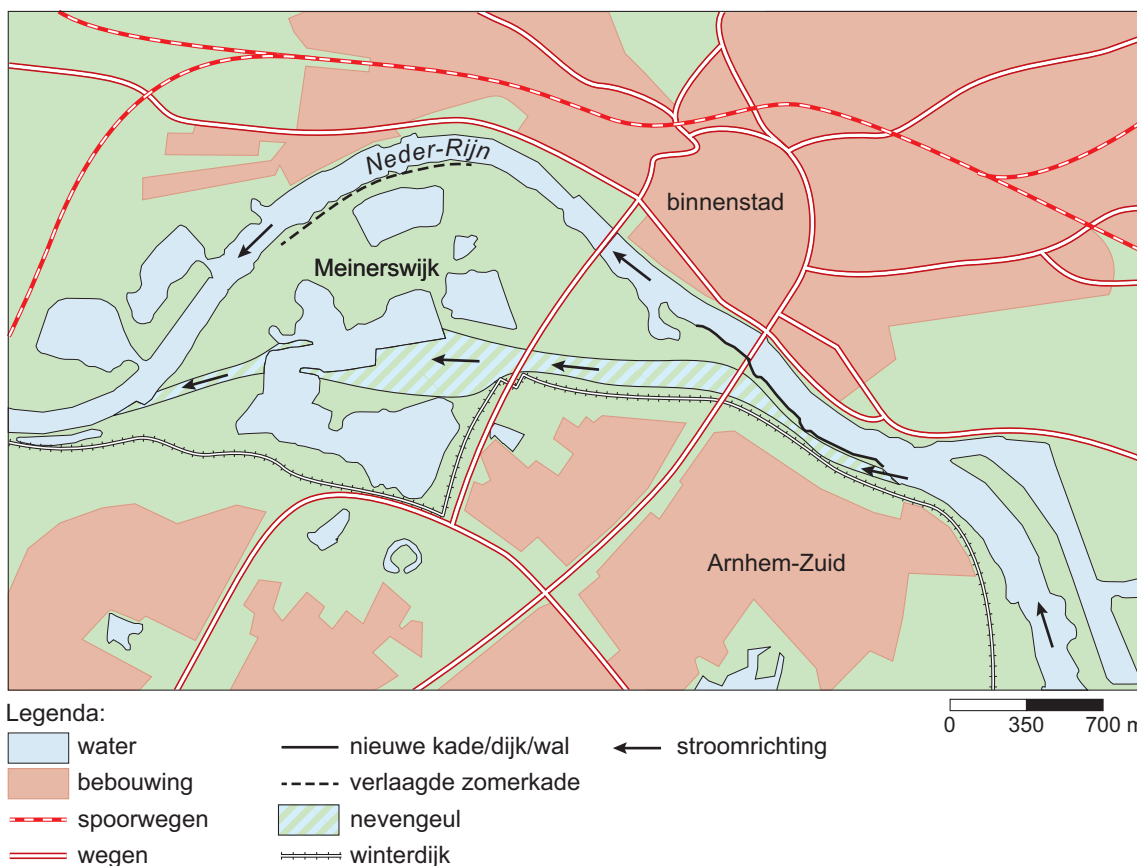
Opgave 7 – De Neder-Rijn bij Arnhem

bron 1

Het gebied Meinerswijk in Arnhem

Meinerswijk is een groen gebied in Arnhem ten zuiden van de Neder-Rijn. Om bij hoogwater de waterstand in de Neder-Rijn te verlagen, zijn in het gebied Meinerswijk maatregelen genomen.

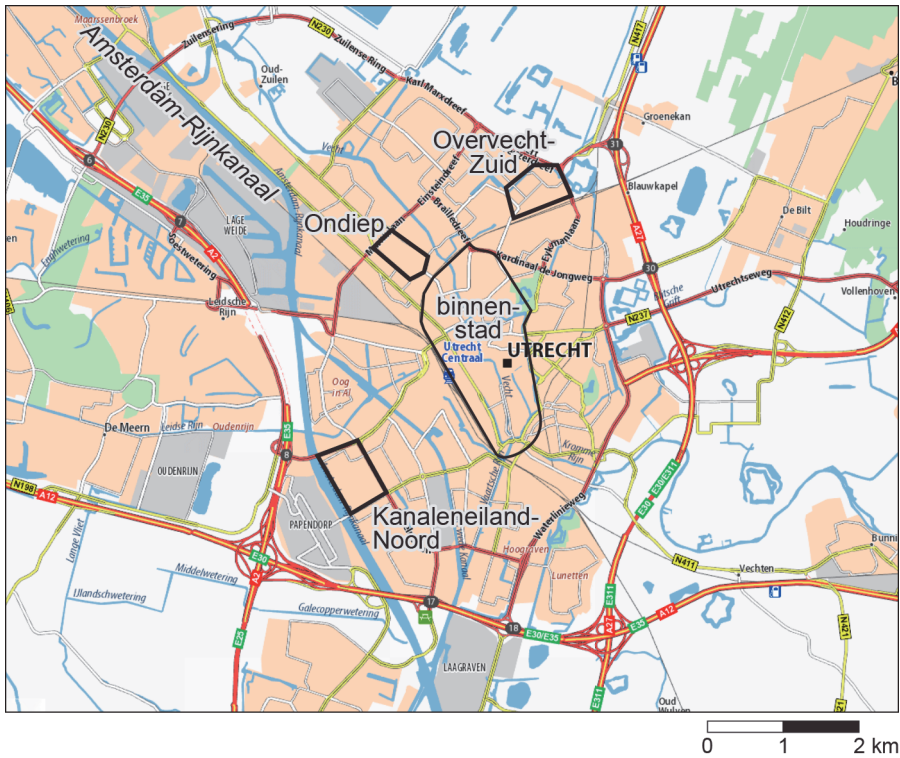
Maatregelen in Meinerswijk



Opgave 8 – Aandachtswijken in Utrecht

bron 1

Ligging van de wijken Kanaleneiland-Noord, Ondiep en Overvecht-Zuid in de stad Utrecht



bron 2

Karakteristieke woningbouw in de drie aandachtswijken

a Kanaleneiland-Noord



b Ondiep



c Overvecht-Zuid

