

gedurende 100 minuten

profielvak Groen – CSPE KB

onderdeel C

Naam kandidaat _____ Kandidaatnummer _____

Bij dit onderdeel horen een uitwerkbijlage en digitale bestanden.

Dit onderdeel bestaat uit 5 opdrachten.

Voor dit onderdeel zijn maximaal 25 punten te behalen.

Voor elk opdrachtnummer staat hoeveel punten met een goede uitvoering behaald kunnen worden.

Overzicht examen

onderdeel	punten	opdrachten
A	32	
B	33	
C	25	<ul style="list-style-type: none">– een kippenras kiezen– een kippenverblijf inrichten en beoordelen– het werk van een dierenverzorger beoordelen– de gezondheid van kippen beoordelen– een fruitboom planten
D	31	

Inleiding

Je werkt op stadsboerderij Het Blijde Ei. De stadsboerderij vindt het belangrijk om zeldzame dieren- en plantenrassen in stand te houden.



De stadsboerderij wil twee oud-Hollandse kippenrassen gaan houden om de rashistorie aandacht te geven. Jij gaat twee oud-Hollandse kippenrassen kiezen.

nodig:

- bestand vr_start_hoenderclub_kb

2p 1 Kies de twee meest geschikte kippenrassen voor de stadsboerderij.

De kippen moeten aan deze eisen voldoen:

- van oorsprong Hollands ras
- rustig en vriendelijk
- niet te veel onderhoud nodig

kippenras 1:

kippenras 2:

Noem voor elk van de vijf rassen die overblijven één reden waarom het ras ongeschikt is voor de stadsboerderij.

ras	reden ongeschikt

De stadsboerderij heeft al een uitloop voor de nieuwe kippen, maar er is ook een nachthok nodig. Jij bepaalt de grootte van het nachthok en je zoekt uit waar het hok moet komen.

nodig:

- bestand vr_start_hoenderclub_kb
- liniaal of geodriehoek

5p 2 Onderzoek hoe groot de uitloop en het nachthok moeten zijn.

benodigde oppervlakte per kip			
groep	gewicht	oppervlakte nachthok per kip	oppervlakte uitloop per kip
grote rassen	> 3000 gram	1,00 m ²	1,50 m ²
middenrassen	2000 - 3000 gram	0,80 m ²	1,35 m ²
kleine rassen	1500 - 2000 gram	0,70 m ²	1,20 m ²
krielrassen	< 1500 gram	0,55 m ²	1,00 m ²

Bij welke groep rassen horen de twee kippenrassen die je hebt gekozen?

kippenras 1:

kippenras 2:

Op de volgende bladzijde staat een schematische schaaltekening van de uitloop voor de kippen.

De stadsboerderij wil van elk kippenras evenveel kippen houden.

Hoeveel kippen van elk ras kunnen er in de uitloop?

Schrijf je berekening op.

.....

.....

.....

.....

In de uitloop komt een fruitboom van een oud-Hollands ras die voor zoveel mogelijk schaduw moet zorgen.
Welke letter in onderstaande tekening geeft de beste plaats aan om de boom te planten?

a b c d

Hoeveel m² moet het nachthok worden? Ga uit van het aantal kippen dat je eerder berekend hebt. Schrijf je berekening op.

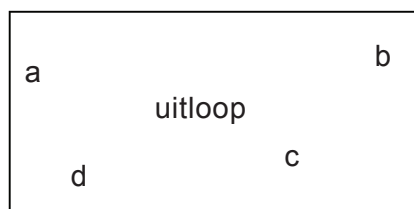

.....

.....

.....

.....

Teken het nachthok tegen de uitloop aan. De opening naar de uitloop is naar het zuidoosten geplaatst. De breedte van het nachthok is precies 2,00 meter. Teken op de juiste schaal.



schaal 1 : 100

Jij gaat beoordelen of een dierversorger op de juiste manier met een kip omgaat.

nodig:

- bestand vr_kip_kb
- koptelefoon

3p 3 Bekijk het filmfragment en beantwoord de vragen.

Geef één kritiekpunt op de conditiebepaling die de dierversorger uitvoert.

.....

.....

.....

Dit is een deel van het etiket van de ontluizingspray.



Geef twee kritiekpunten op de manier waarop de dierversorger de kip ontluist.

.....

.....

.....

.....

Een dierversorger moet rekening houden met de veiligheid en het welzijn van alle kippen.

Waaruit blijkt dat de dierversorger wel of geen rekening houdt met de veiligheid en het welzijn van de kippen?

Geef twee voorbeelden uit het filmfragment. Noem iets anders dan bij de vorige vragen.

.....

.....

.....

De stadsboerderij verkoopt een deel van de kippen om plaats te maken voor de oud-Hollandse kippenrassen. Uiteraard worden alleen gezonde kippen verkocht. Jij controleert daarom bij twee kippen de gezondheid.

nodig:

- twee kippen
- matje
- uitwerkbijlage

5p **4** Controleer de gezondheid van twee kippen.

- Vul de formulieren in de uitwerkbijlage helemaal in.
- De examinator zegt wat je bij omschrijving kip moet invullen.
- Kruis in het schema aan wat geldt voor de kip.
- Bij ogen en poten geef je zelf een omschrijving van wat je ziet.
- Beantwoord daarna de onderstaande vragen.

De kippen kunnen alleen verkocht worden als ze gezond zijn.

Mag kip 1 verkocht worden? Geef aan waarom wel of niet.

Kip 1 mag wel / niet verkocht worden, omdat

.....

.....

Mag kip 2 verkocht worden? Geef aan waarom wel of niet.

Kip 2 mag wel / niet verkocht worden, omdat

.....


.....

De kippen zijn verkocht en het kippenverblijf wordt klaargemaakt voor de nieuwe kippen. Je hebt de beste plek voor een boom gekozen en gaat nu een oud-Hollandse fruitboom plaatsen.

Bij deze opdracht wordt ook je werktempo beoordeeld. De tijd gaat in wanneer je klaar bent met het lezen en kunt beginnen met de opdracht. De tijd stopt wanneer je klaar bent met het afwerken van de grond.

Maak de opdracht wel af als de tijd voorbij is.

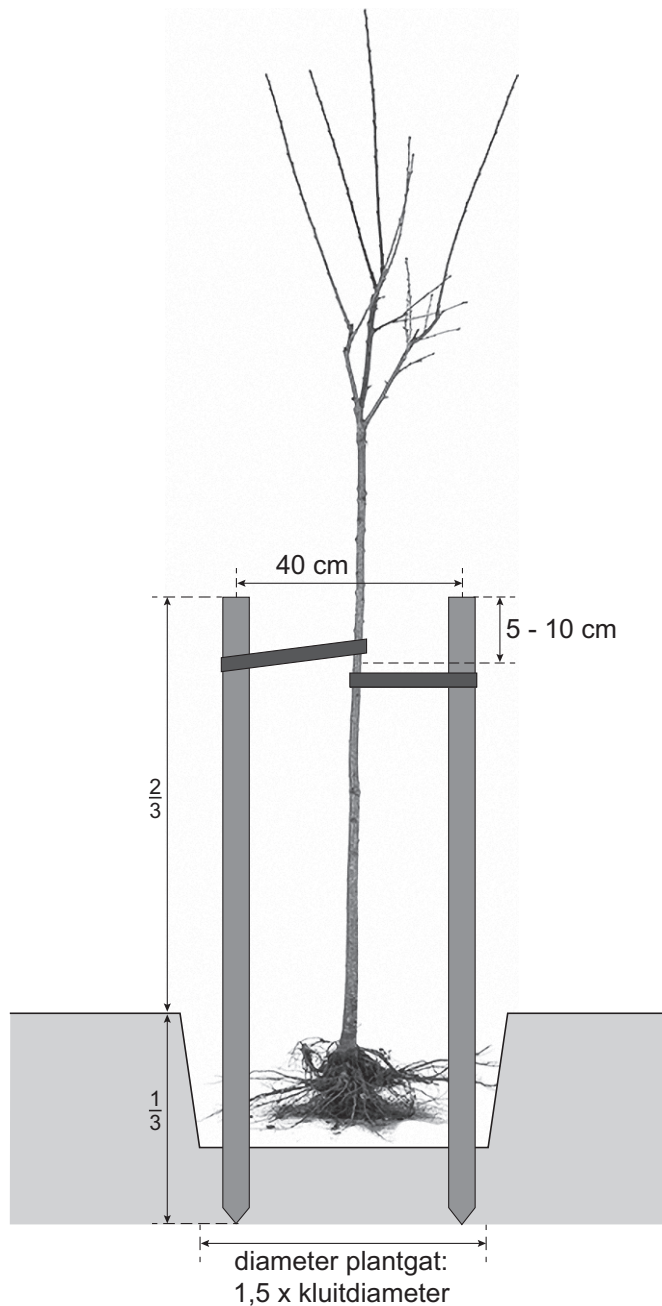
Je krijgt alleen punten voor je werktempo als je minimaal 5 punten voor de opdracht hebt gescoord.

	< 30 minuten	2 punten
	30 - 35 minuten	1 punt
	> 35 minuten	0 punten

nodig:

- meetlint
- spade/steekschop
- grondboor
- sleg/rubberen hamer
- 2 boompalen
- fruitboom hoogstam
- boomband
- boomspijkers
- hamer
- gieter met broes
- hark

10p **5** Plant de fruitboom volgens de tekening en de aanwijzingen op de volgende pagina.



Aanwijzingen:

- Maak de grond onder in de plantkuil los.
- Gebruik voor het plaatsen van de boompalen eerst de grondboor en sla de palen vast.
- Schud na het plaatsen van de boom de grond tussen de wortels.
- Druk de grond licht aan en werk de grond af.

Als je klaar bent met dit onderdeel lever je alle documenten in.