

gedurende 85 minuten

**profielvak Groen – CSPE KB**

**onderdeel C**

---

Naam kandidaat \_\_\_\_\_ Kandidaatnummer \_\_\_\_\_

Bij dit onderdeel horen een uitwerkbijlage en digitale bestanden.

Dit onderdeel bestaat uit 5 opdrachten.

Voor dit onderdeel zijn maximaal 24 punten te behalen.

Voor elk opdrachtnummer staat hoeveel punten met een goede uitvoering behaald kunnen worden.

## Overzicht examen

Het cspe bestaat uit vier onderdelen.

In het overzicht staat hoeveel punten je per onderdeel kunt behalen en welke opdrachten je gaat uitvoeren in dit onderdeel.

onderdeel A	32 punten	
onderdeel B	33 punten	
onderdeel C	24 punten	<ul style="list-style-type: none"><li>– een konijnenras kiezen</li><li>– een konijnenverblijf beoordelen</li><li>– het werk van een dierenverzorger beoordelen</li><li>– de gezondheid van konijnen beoordelen</li><li>– wilgentakken planten</li></ul>
onderdeel D	32 punten	

## Inleiding

Je werkt op stadsboerderij Het Blijde Ei. Deze stadsboerderij is bijzonder omdat er vooral oud-Hollandse dierenrassen worden gehouden.



De stadsboerderij heeft nieuwe konijnen van twee rassen gekregen:  
de Hulstlander en de Gouwenaar.

nodig:

- bestand vb\_start\_konijnenrassen\_kb

1p 1 Onderzoek of de Hulstlander geschikt is voor op de stadsboerderij.

Je weet al dat de Gouwenaar geschikt is, want hij voldoet aan deze eisen:

- van oorsprong Hollands ras
- rustig en vriendelijk
- niet te veel onderhoud nodig

Is de Hulstlander ook geschikt?

De Hulstlander is wel / niet geschikt,

omdat .....

.....

De stadsboerderij heeft de gewoonte om verschillende rassen gescheiden van elkaar te huisvesten. Er is een verblijf voor de Gouwenaar-konijnen.



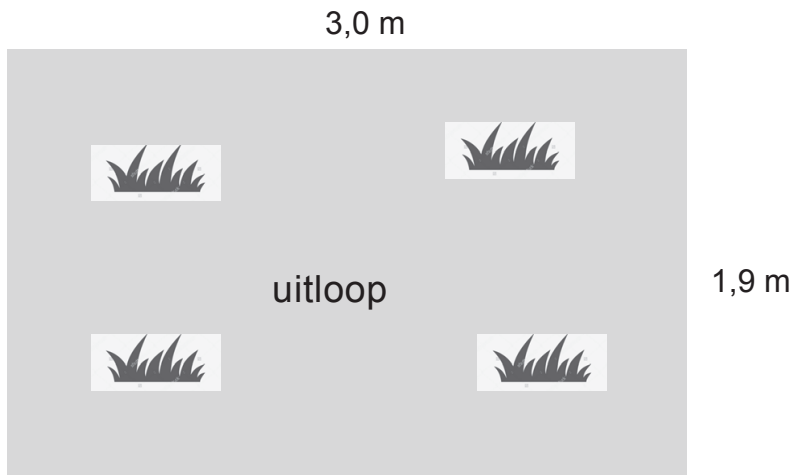
Jij zoekt uit of de uitloop en het binnenhok groot genoeg zijn.

nodig:

- bestand vb\_start\_konijnenrassen\_kb
- liniaal

- 4p 2 Onderzoek met behulp van de website of de uitloop en het binnenhok groot genoeg zijn.

Dit is een tekening van de uitloop voor de Gouwenaar-konijnen.



Hoeveel konijnen van het ras Gouwenaar kan de stadsboerderij nemen, gezien de oppervlakte van de uitloop? Schrijf je berekening op.

.....

.....

.....

De nieuwe konijnen hebben een binnenhok nodig. Hoeveel m<sup>2</sup> moet het binnenhok minimaal zijn voor het aantal konijnen dat je hebt berekend bij de vorige vraag? Schrijf je berekening op en geef je antwoord in twee decimalen.

.....

.....

.....

Dit is een plattegrond van het binnenhok op de stadsboerderij.



schaal 1:30

Is de oppervlakte van het binnenhok groot genoeg voor het aantal Gouwenaren dat je hebt berekend? Schrijf de berekening op.

.....

.....

.....

Jij gaat beoordelen of een dierversorger op de juiste manier met een konijn omgaat.

nodig:

- bestand vb\_konijn\_kb
- koptelefoon

3p **3** Bekijk het filmpje en beantwoord de vragen.

Geef één kritiekpunt op de manier waarop de dierversorger het konijn hanteert.

.....

.....

.....

Heeft de diervorzorger alle nagels van het konijn geknipt?

- ja
- nee

Leg uit waarom je dit antwoord geeft.

.....

.....

Op de afbeelding zie je een nagel van een konijn.  
Zet in de afbeelding een streep op de plek waar de nagel geknipt moet worden.



De diervorzorger moet rekening houden met de veiligheid en het welzijn van het konijn.

Waaruit blijkt dat de diervorzorger **wel** rekening houdt met de veiligheid en het welzijn van het konijn? Geef één voorbeeld uit de film.

.....

.....

Waaruit blijkt dat de diervorzorger **geen** rekening houdt met de veiligheid en het welzijn van het konijn? Geef één voorbeeld uit de film. Noem iets anders dan bij de vorige vragen.

.....

.....

De stadsboerderij verkoopt enkele konijnen om plaats te maken voor nieuwe rassen. Natuurlijk worden alleen gezonde konijnen verkocht. Jij controleert daarom bij twee konijnen de gezondheid.

nodig:

- twee konijnen
- matje
- uitwerkbijlage

6p 4 Bepaal het geslacht en controleer de gezondheid van twee konijnen.

- Vul de formulieren in de uitwerkbijlage helemaal in.
- De examinerator zegt wat je bij omschrijving konijn moet invullen.
- Kruis in het schema aan wat geldt voor het konijn.
- Bij vacht en nagels geef je zelf een omschrijving van wat je ziet.
- Beantwoord daarna de onderstaande vragen.

De konijnen mogen alleen verkocht worden als ze gezond zijn.  
Mag konijn 1 verkocht worden? Geef aan waarom wel of niet.

Konijn 1 mag wel / niet verkocht worden, omdat

.....  
.....

Mag konijn 2 verkocht worden? Geef aan waarom wel of niet.


Konijn 2 mag wel / niet verkocht worden, omdat

.....  
.....

Het ontwerp voor de uitloop voor de nieuwe konijnen is klaar. Je plant als verrijking wilgentakken in de uitloop.

Bij deze opdracht wordt ook je werktempo beoordeeld. De tijd gaat in nadat je de takken hebt geknipt en je bij het uitgezette stukje grond bent. De tijd stopt wanneer je klaar bent met het afwerken van de grond. Maak de opdracht wel af als de tijd voorbij is.

Je krijgt alleen punten voor je werktempo als je minimaal 5 punten voor de opdracht hebt gescoord.



< 25 minuten	2 punten
25 - 30 minuten	1 punt
> 30 minuten	0 punten

nodig:

- wilgentakken
- meetlint/duimstok
- snoeischaar of takkenschaar
- pootlijn
- touw
- uitzetpen
- stokje
- hark
- gieter



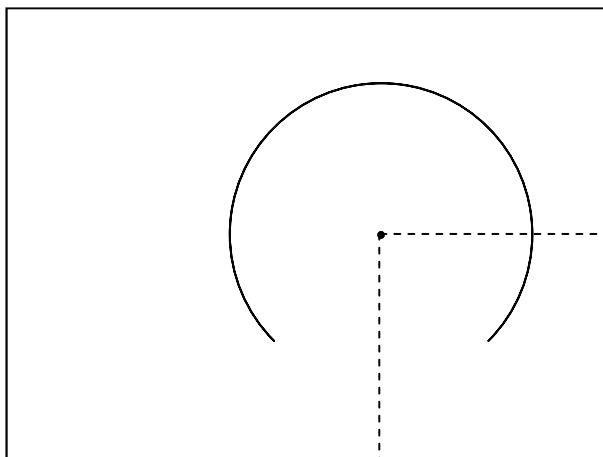
10p 5 Maak de verrijking voor in de konijnenuitloop.

#### Vorbereiding

- Verzamel zeven wilgentakken van 150 - 200 cm en knip de onderkant van elke tak schuin af.

*Laat de examiner je werk beoordelen.*

- Vraag aan de examiner welk stuk grond je moet gebruiken. Je hoeft de grond niet om te spitten.
- Zet een cirkel uit volgens de tekening. Teken met het stokje en het touw de cirkel in de grond.



schaal 1:25

#### Beplanten

- Beplant de cirkel voor ongeveer 3/4 deel (volgens de tekening). Plaats de takken 25 cm diep in de grond.
- Verdeel de takken gelijkmatig over de 3/4 cirkel.
- Bind de takken bovenaan met touw aan elkaar vast (zie foto op pagina 8). De takken steken ongeveer 20 cm boven het touw uit.
- Werk de grond af en geef water.

*Als je klaar bent met dit onderdeel lever je alle documenten in.*